

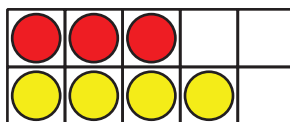
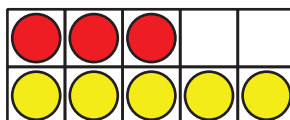

Lección 3: ¿Las expresiones son iguales?

- Pensemos en cómo pueden ser iguales las expresiones.

Calentamiento: Cuántos ves: Sumas hasta 10

¿Cuántos ves?

¿Cómo lo sabes?, ¿qué ves?



3.2: ¿Ambos lados son iguales?

En cada caso, decide si la ecuación es verdadera o falsa.
Prepárate para explicar tu razonamiento de una forma que los demás entiendan.

1. $4 + 2 = 2 + 4$



verdadera



falsa

o

2. $3 + 6 = 6 + 4$



verdadera



falsa

o

3. $5 + 3 = 1 + 7$



verdadera



falsa

o

$$4. 6 + 4 = 5 + 3$$



verdadera

o



falsa

$$5. 6 + 3 = 9 + 2$$



verdadera

o



falsa

Si te queda tiempo: cambia las ecuaciones falsas para que sean verdaderas.