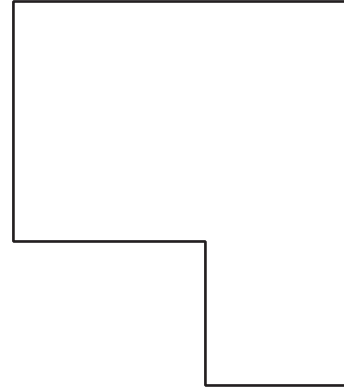




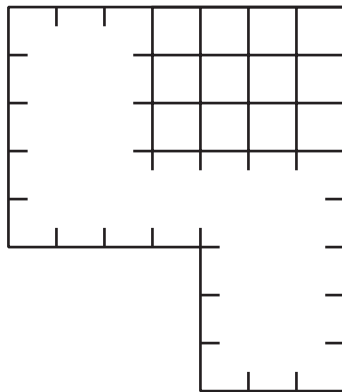
## 13.1: Adiós a los cuadrados

¿Qué observas? ¿Qué te preguntas?

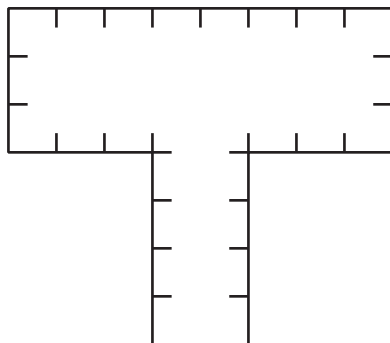


Encuentra el área de cada figura. Explica o muestra tu razonamiento.

1.

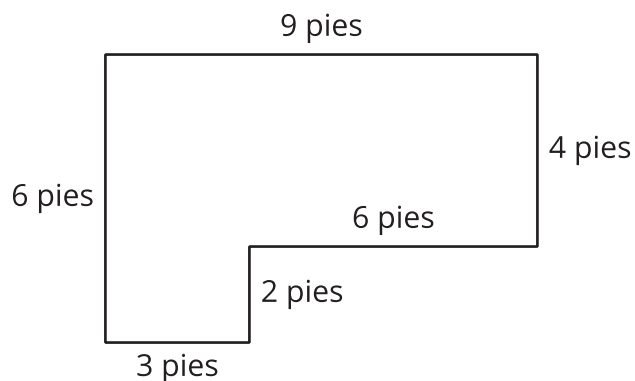


2.



## 13.2: ¿Cuántos adoquines necesitamos?

Noah quiere usar adoquines de 1 pie cuadrado para hacer un patio pequeño en la huerta comunitaria. Este es un diagrama del patio.



1. ¿Cuántos adoquines de 1 pie cuadrado necesitará Noah para cubrir todo el patio?

2. ¿Cuál es el área del patio? Explica o muestra tu razonamiento.

