

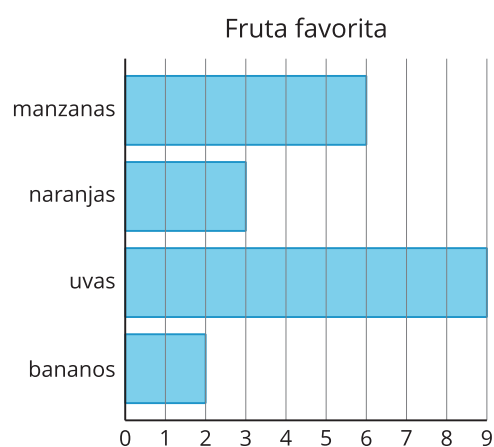
Lección 10: Usemos gráficas de dibujos y gráficas de barras para representar datos

- Hagamos nuestras propias gráficas de dibujos y gráficas de barras.

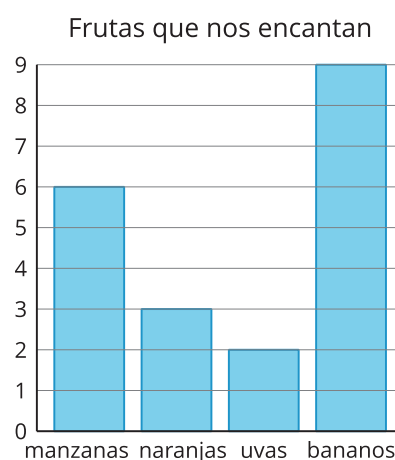
Calentamiento: Cuál es diferente: Datos

¿Cuál es diferente?

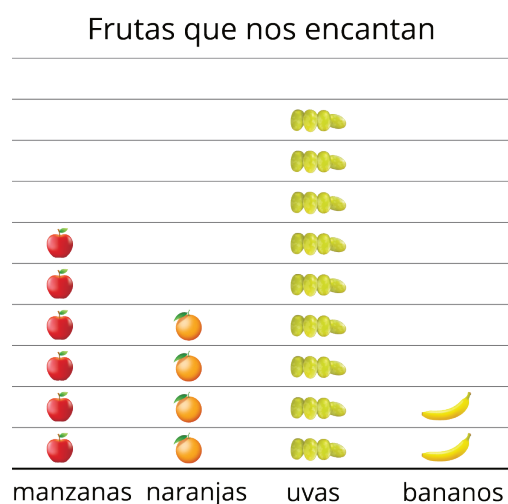
A



B



C



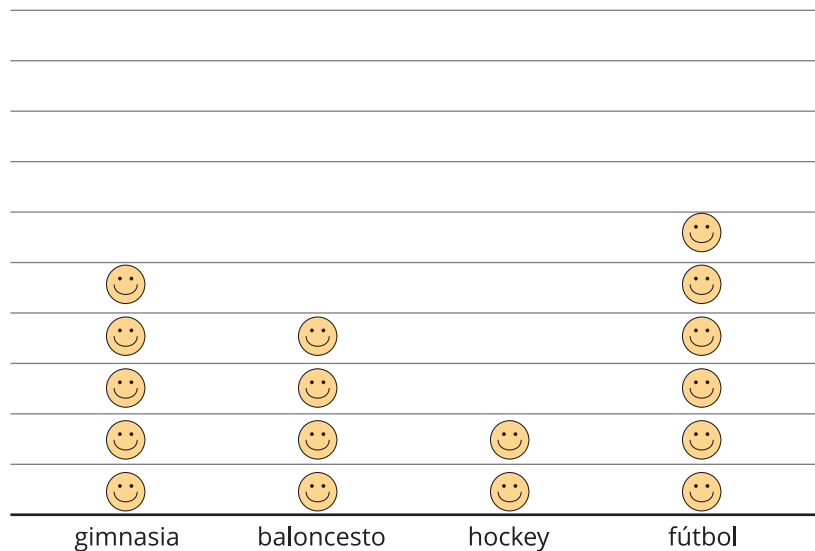
D

manzanas	6
naranjas	3
uvas	9
bananos	2

10.1: Hagamos gráficas de dibujos

A un grupo de estudiantes de segundo grado les preguntaron: “¿Cuál es su deporte favorito?”. Sus respuestas se muestran en esta gráfica de dibujos.

Deportes favoritos de los estudiantes de segundo grado

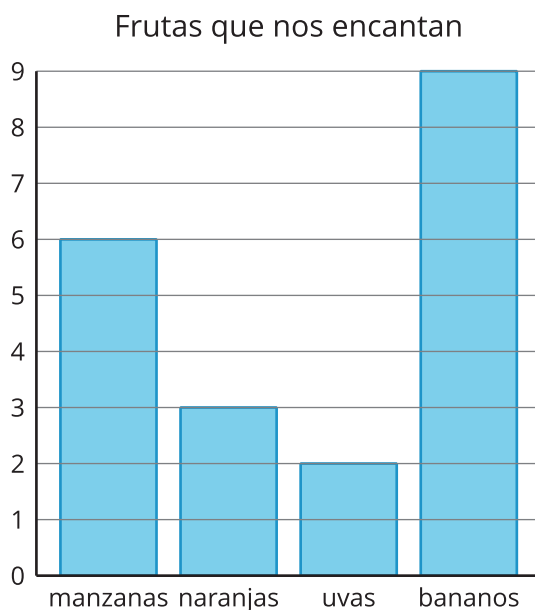


Representa en una gráfica de dibujos los datos que se muestran en tu tabla.

Tabla # _____

10.2: Dibujemos gráficas de barras

A un grupo de estudiantes les preguntaron: “¿Qué fruta les encanta comer?”. Sus respuestas se muestran en esta gráfica de barras.



Representa en una gráfica de barras los datos que se muestran en tu tabla.

Tabla # _____

