

Grado 1 Unidad 7

Lección 1

CC BY 2021 Illustrative Mathematics®


Unit 7 Lesson 1: Figuras que son sólidas

WUCuál es diferente: Figuras (Warm up)

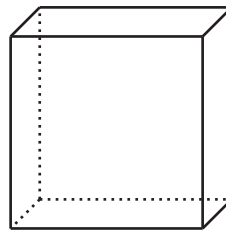
Student Task Statement

¿Cuál es diferente?


A



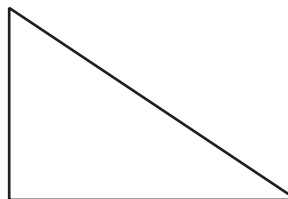
B



C



D



1 Clasifiquemos figuras sólidas

Student Task Statement

1. Clasifica algunas de las figuras en categorías de una manera que tenga sentido para ti.
Explica cómo clasificaste las figuras.
2. Clasifica algunas de las figuras en categorías de otra manera.
Explica cómo clasificaste las figuras.



2 Describamos y encontremos figuras

Student Task Statement

- Toma una bolsa.
- Cada compañero siente la figura en la bolsa sin mirarla y piensa en qué figura es.
- Cada compañero dice cuál figura cree que es y por qué.
- Mira en la bolsa para revisar.
- Toma otra bolsa.