

Lección 4: Más suma y resta con decenas

- Sumemos y restemos decenas.

Calentamiento: Conversación numérica: Más o menos 10

Encuentra mentalmente el valor de cada expresión.

- $30 + 10$

- $40 + 10$

- $80 - 10$

- $70 - 10$

4.1: ¿Cuántos hay en la bolsa?

1. Jada está contando colecciones de cubos.

En la bolsa A hay 30 cubos.

En la bolsa B hay 2 torres de 10.

¿Cuántos cubos hay en total en las dos bolsas?

Muestra cómo pensaste. Usa dibujos, números o palabras.

2. Tyler está contando una colección de cubos.

En la bolsa C hay 7 torres de 10.

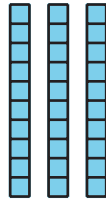
Él saca 40 cubos de la bolsa.

¿Cuántos cubos le quedan en la bolsa?

Muestra cómo pensaste. Usa dibujos, números o palabras.

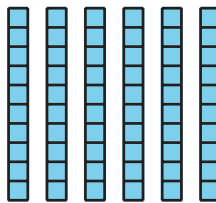
4.2: Suma y resta decenas

1. Suma 20:



Ecuación: _____

2. Resta 20:



Ecuación: _____

3. 4 decenas y 5 decenas es _____

Ecuación: _____

4. 8 decenas quitando 3 decenas es _____

Ecuación: _____

$5.20 + 60 = \square$

$6.70 - 20 = \square$


$7.90 - 70 = \square$

$8.40 + 40 = \square$

Section Summary

Section Summary

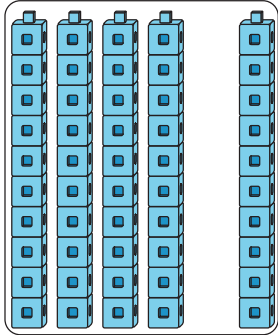
Aprendimos cómo mostrar decenas de diferentes formas.



6 decenas

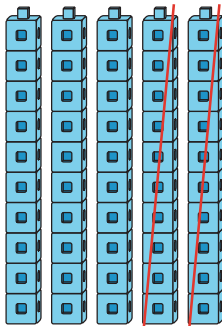
$$60$$

Aprendimos cómo sumarle y restarle decenas a otras decenas.



4 decenas y 1 decena son 5 decenas

$$40 + 10 = 50$$



5 decenas quitando 2 decenas son 3 decenas

$$50 - 20 = 30$$