

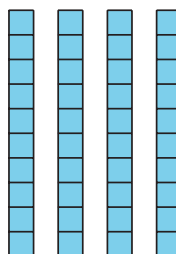
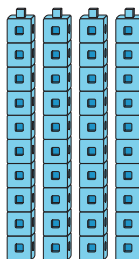
Lección 3: Sumar y restar con decenas

- Sumemos y restemos 10.

Calentamiento: Cuántos ves: Grupos de 10

¿Cuántos ves?

¿Cómo lo sabes?, ¿qué ves?



c. Suma otra decena.

¿Cuántas tienes ahora?

Muestra cómo pensaste. Usa dibujos, números o palabras.

d. Suma otra decena.

¿Cuántas tienes ahora?

Muestra cómo pensaste. Usa dibujos, números o palabras.

e. Suma otra decena.

¿Cuántas tienes ahora?

Muestra cómo pensaste. Usa dibujos, números o palabras.

f. Suma otra decena.
¿Cuántas tienes ahora?
Muestra cómo pensaste. Usa dibujos, números o palabras.

g. Suma otra decena.
¿Cuántas tienes ahora?
Muestra cómo pensaste. Usa dibujos, números o palabras.

h. Suma otra decena.
¿Cuántas tienes ahora?
Muestra cómo pensaste. Usa dibujos, números o palabras.

2. a. Muestra 9 decenas
Quita una decena.
¿Cuántas tienes ahora?
Muestra cómo pensaste. Usa dibujos, números o palabras.

- b. Quita otra decena.
¿Cuántas tienes ahora?
Muestra cómo pensaste. Usa dibujos, números o palabras.

c. Quita otra decena.
¿Cuántas tienes ahora?
Muestra cómo pensaste. Usa dibujos, números o palabras.

d. Quita otra decena.
¿Cuántas tienes ahora?
Muestra cómo pensaste. Usa dibujos, números o palabras.

e. Quita otra decena.
¿Cuántas tienes ahora?
Muestra cómo pensaste. Usa dibujos, números o palabras.

f. Quita otra decena.

¿Cuántas tienes ahora?

Muestra cómo pensaste. Usa dibujos, números o palabras.

g. Quita otra decena.

¿Cuántas tienes ahora?


Muestra cómo pensaste. Usa dibujos, números o palabras.

h. Quita otra decena.

¿Cuántas tienes ahora?

Muestra cómo pensaste. Usa dibujos, números o palabras.

3.2: Conozcamos “Cinco en línea: Suma o resta 10”



Anota tu ronda favorita.

Muestra cómo pensaste. Usa dibujos, números o palabras.

3.3: Centros: Momento de escoger

Escoge un centro.

Cinco en línea



¿Qué tan cerca?

$$\boxed{} \boxed{} + \boxed{} \boxed{} = \underline{\hspace{2cm}}$$

Acertijos numéricos

$$14 = 8 + \boxed{}$$