


Lección 10: Completemos ecuaciones

- Escribamos ecuaciones para mostrar números del 11 al 19.


Calentamiento: ¿Qué saben sobre el 15?

¿Qué sabes sobre el 15?


10.1: ¿Cuáles son los números desconocidos?



$$10 + 8 = \underline{\hspace{2cm}}$$




$$10 + 3 = \underline{\hspace{2cm}}$$




$$10 + 4 = \underline{\hspace{2cm}}$$






$$\underline{\hspace{2cm}} + \underline{\hspace{2cm}} = 16$$



$$\underline{\hspace{2cm}} + \underline{\hspace{2cm}} = 19$$



$$\underline{\hspace{2cm}} + \underline{\hspace{2cm}} = 12$$

10.2: Hagamos que las ecuaciones sean verdaderas

1. $10 + 5 = \underline{\hspace{2cm}}$

2. $\underline{\hspace{2cm}} + \underline{\hspace{2cm}} = 16$

3. $\underline{\hspace{2cm}} + \underline{\hspace{2cm}} = 19$

4. $\underline{\hspace{2cm}} + \underline{\hspace{2cm}} = 13$

5. $\underline{\hspace{2cm}} + \underline{\hspace{2cm}} = 17$

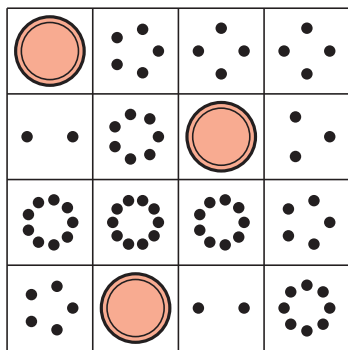
6. $10 + 1 = \underline{\hspace{2cm}}$



10.3: Centros: Momento de escoger

Escoge un centro.


Bingo



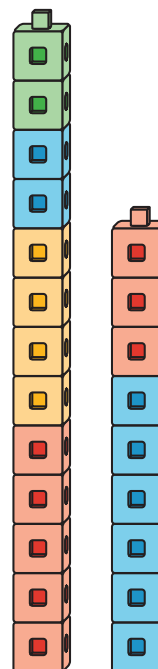
Carrera con números



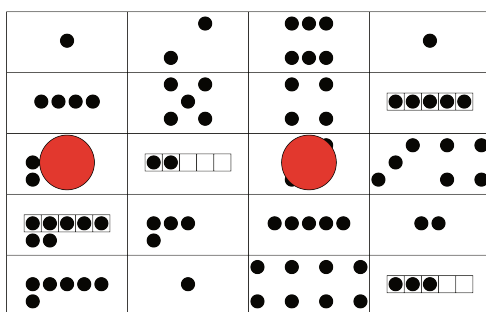
Agarra y cuenta



Construcción de torres



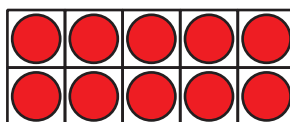

Formar o separar números



Section Summary

Section Summary

Vimos y formamos números del 11 al 19 con dedos y tableros de 10.



Vimos estos números escritos como 10 y algunos más de diferentes formas.

10 y 4 es 14.

$10 + 4$ es 14.

$10 + 4 = 14$

