

Grado 2 Unidad 7

Lección 7

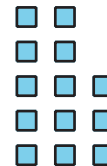
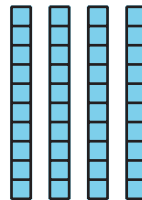


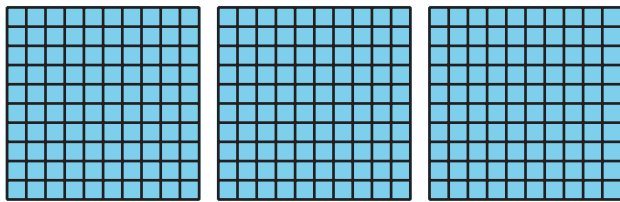
CC BY 2021 Illustrative Mathematics®

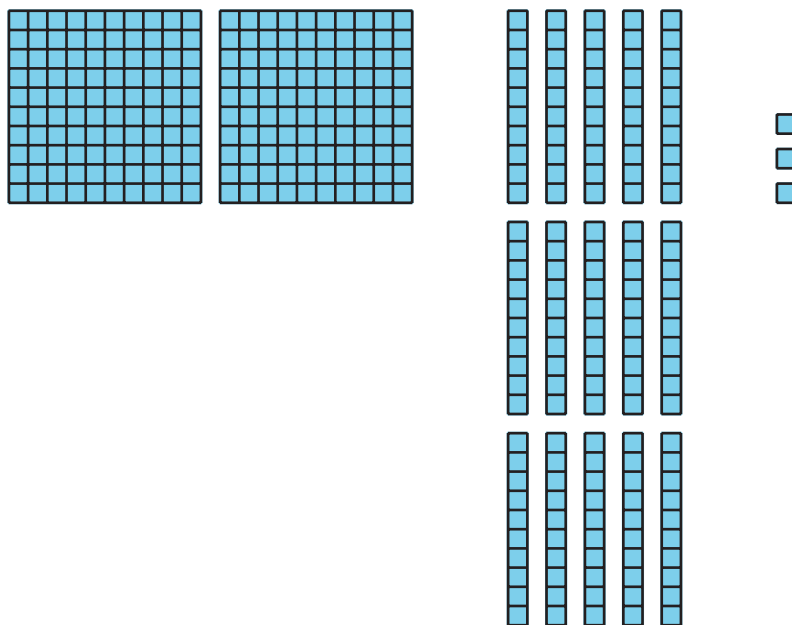
Unit 7 Lesson 7: Compongamos una unidad más grande

WU Cuántos ves: ¿Se parecen? (Warm up)

Student Task Statement

¿Cuántos ves? ¿Cómo lo sabes?, ¿qué ves?





1 Compongamos una decena o una centena

Student Task Statement

- Encuentra el valor de cada expresión. Muestra cómo pensaste. Si te ayuda, usa bloques en base diez.
 - $364 + 28$
 - $364 + 82$
- Compara con tu compañero cómo pensaste.

2 Caminemos por ahí y sumemos

Student Task Statement

Instrucciones:

- Encuentra un compañero y anota los números que ustedes tienen para formar una expresión.
- Discutan si piensan que tienen que componer una decena o una centena cuando suman sus números.
- Encuentra el valor de la suma. Muestra cómo pensaste.

- _____ + _____
 - ¿Vas a tener que componer una decena?

Sí o No

- ¿Vas a tener que componer una centena?

Sí o No

- Encuentra el valor de la suma. Muestra cómo pensaste.



2. a. _____ + _____

b. ¿Vas a tener que componer una decena?

Sí o No

c. ¿Vas a tener que componer una centena?

Sí o No

d. Encuentra el valor de la suma. Muestra cómo pensaste.

3. a. _____ + _____

b. ¿Vas a tener que componer una decena?

Sí o No

c. ¿Vas a tener que componer una centena?

Sí o No

d. Encuentra el valor de la suma. Muestra cómo pensaste.