

**Grado 1 Unidad 3**

Lección 17

CC BY 2021 Illustrative Mathematics®

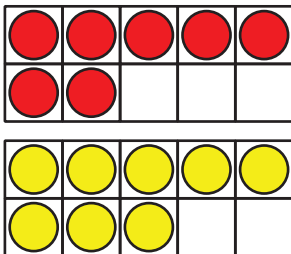
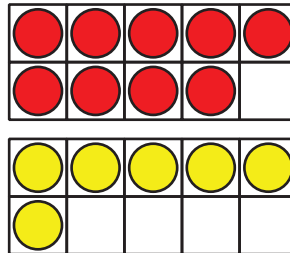
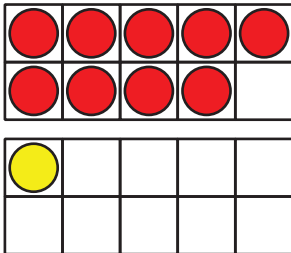
## Unit 3 Lesson 17: Formemos 10 para sumar

### WU Cuántos ves: Tableros de 10 dobles (Warm up)

Student Task Statement

¿Cuántos ves?

¿Cómo lo sabes?, ¿qué ves?



### 1 El juego de 9 más algo

Student Task Statement

- Pon 9 fichas.
- Toma una tarjeta de números y agrega esa cantidad de fichas.
- Escribe una ecuación para representar las fichas.  
¿Puedes escribir más de una?

Ecuaciones:

Ronda 1: \_\_\_\_\_

Ronda 2: \_\_\_\_\_

---

Ronda 3: \_\_\_\_\_

Ronda 4: \_\_\_\_\_

Ronda 5: \_\_\_\_\_

## 2 Las aves de Clare

### Student Task Statement

1. Clare dibuja algunas aves.  
Ella dibuja 3 aves en un nido y 9 aves volando.  
¿Cuántas aves dibujó?  
Muestra cómo pensaste. Usa dibujos, números o palabras.

Ecuación: \_\_\_\_\_

2. Clare dibuja aves de clima cálido.  
Ella dibuja 6 tucanes y 8 loros.  
¿Cuántas aves dibujó?  
Muestra cómo pensaste. Usa dibujos, números o palabras.

Ecuación: \_\_\_\_\_

3. Clare dibuja aves de clima frío.  
Ella dibuja 7 pingüinos y 5 búhos.  
¿Cuántas aves dibujó?  
Muestra cómo pensaste. Usa dibujos, números o palabras.

Ecuación: \_\_\_\_\_

