

Lección 2: Contemos dos grupos de imágenes

- Descubramos cuántas cosas hay en dos grupos.

2.1: Juntemos puntos en tableros de 5

Hay _____ puntos.

Hay _____ puntos.


Hay _____ puntos.

Hay _____ puntos.

Hay _____ puntos.


2.2: ¿Cuántas manzanas?

1.




Hay _____ manzanas.

2.




Hay _____ manzanas.

3.



Hay _____ manzanas.

4.



Hay _____ manzanas.

2.3: Conozcamos “Lanza y suma: Puntos”

¿Cuántos puntos?

1.

2.

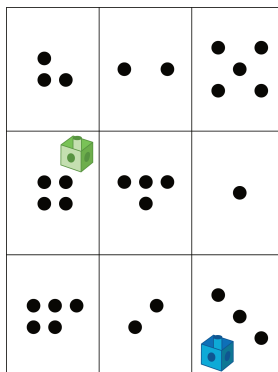
3.

4.


5.

Escoge un centro.

Lanza y suma



Mi mate-libreta



Haz una como la mía

