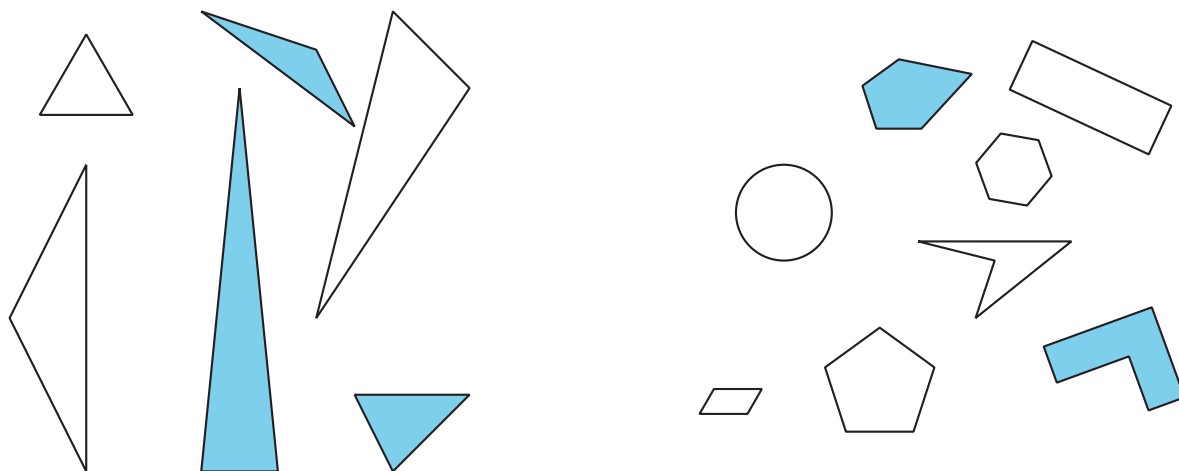


# Lección 1: Identifiquemos y clasifiquemos figuras

- Clasifiquemos y nombremos figuras según sus lados y esquinas.

## Calentamiento: Observa y pregúntate: Grupos de figuras

¿Qué observas? ¿Qué te preguntas?



## 1.1: Clasificación de tarjetas: Figuras

Clasifica las figuras en categorías de una manera que tenga sentido para ti. Prepárate para explicar cómo clasificaste las figuras.

## 1.2: Penta... ¿qué?

Reúne pistas para descubrir qué tipo de figuras están en cada una de estas categorías.

triángulo

pentágono

hexágono

cuadrilátero

1. Pregúntale al profesor si una tarjeta de figura está o no en alguna de estas categorías.

Usa este esquema de pregunta:

¿La figura \_\_\_\_\_ es un \_\_\_\_\_?

2. Usa las pistas que reuniste para hacer que la afirmación sea verdadera.

La figura \_\_\_\_\_ es un \_\_\_\_\_ porque tiene

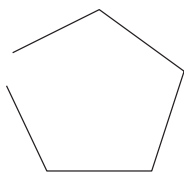
---



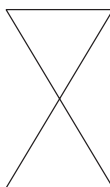
---

3. ¿Estas figuras estarían en alguna de las categorías? Explica.

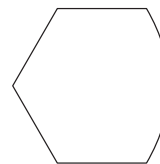
**A**



**B**



**C**



---

---

---

## 1.3: Comparemos figuras

Escoge 1 tarjeta de figura.

Prepárate para nombrar y describirle tu figura a un compañero.