

Grado 1 Unidad 3

Lección 3

CC BY 2021 Illustrative Mathematics®

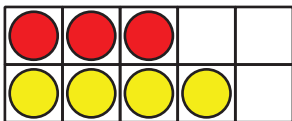
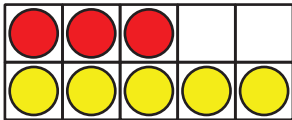
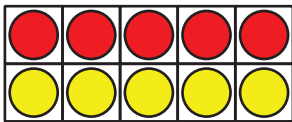
Unit 3 Lesson 3: ¿Las expresiones son iguales?

WU Cuántos ves: Sumas hasta 10 (Warm up)

Student Task Statement

¿Cuántos ves?

¿Cómo lo sabes?, ¿qué ves?



1 Clasifiquemos expresiones de suma

Student Task Statement

2 ¿Ambos lados son iguales?

Student Task Statement

En cada caso, decide si la ecuación es verdadera o falsa.

Prepárate para explicar tu razonamiento de una forma que los demás entiendan.

1. $4 + 2 = 2 + 4$



verdadera

o



falsa

2. $3 + 6 = 6 + 4$



verdadera

o



falsa

3. $5 + 3 = 1 + 7$



verdadera

o



falsa

4. $6 + 4 = 5 + 3$



verdadera

o



falsa

5. $6 + 3 = 9 + 2$



verdadera

o



falsa

Si te queda tiempo: cambia las ecuaciones falsas para que sean verdaderas.