

## Kínder Unidad 7

Lección 14

CC BY 2021 Illustrative Mathematics®

## Unit 7 Lesson 14: Compongamos con figuras sólidas

### WU Conversación numérica: Restemos 1 y 2 (Warm up)

Student Task Statement

Encuentra el valor de cada expresión.

- $3 - 1$
- $3 - 2$
- $4 - 2$
- $5 - 1$

### 1 Construyamos con figuras sólidas

Student Task Statement

### 2 Construyamos mi figura

Student Task Statement

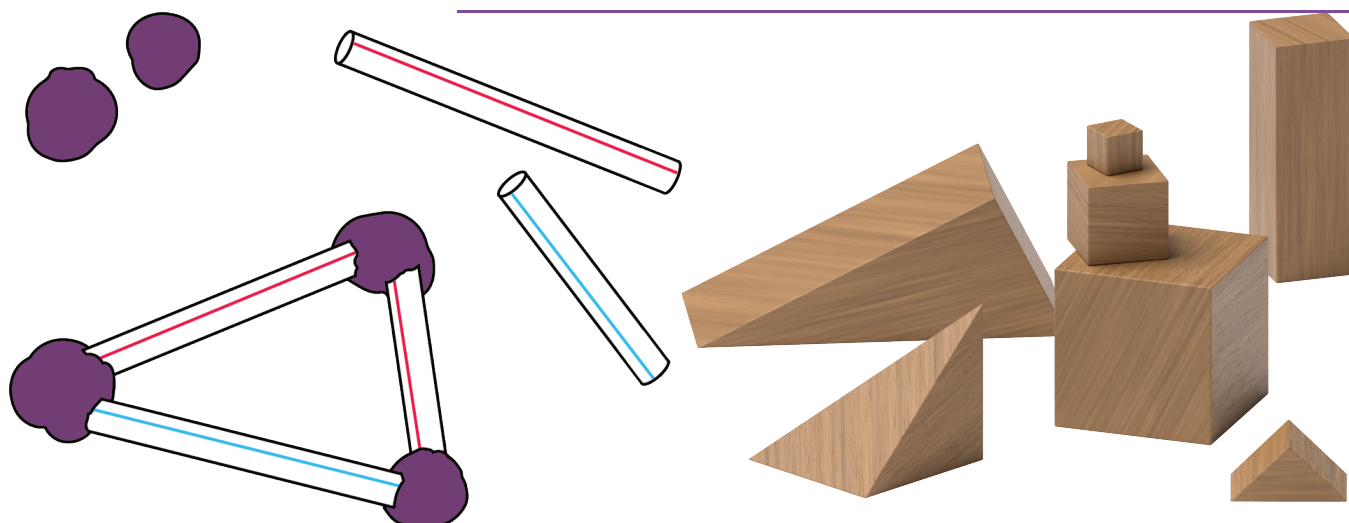
### 3 Conozcamos “Haz una como la mía: Figuras sólidas”

Student Task Statement

Escoge un centro.

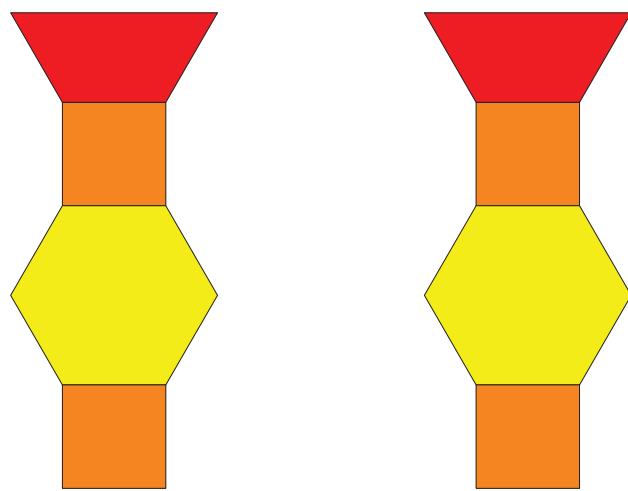

Construye figuras

Bloques sólidos geométricos



Contar colecciones

Haz una como la mía



Revuelve y saca

