

## Lección 4: Grupos que se parecen

- Encontremos grupos que tienen más, menos o el mismo número.



## 4.1: ¿Cuál tiene más?

Priya y su familia están sentados en la mesa para la cena.

Hay 4 personas sentadas en la mesa.

Hay 6 cucharas.

¿Hay suficientes cucharas para que cada persona reciba una?






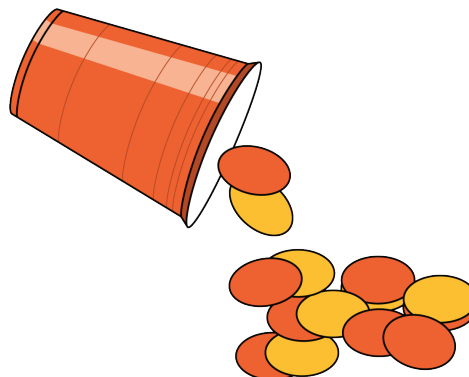
## 4.3: Centros: Momento de escoger

Escoge un centro.


Carrera con números



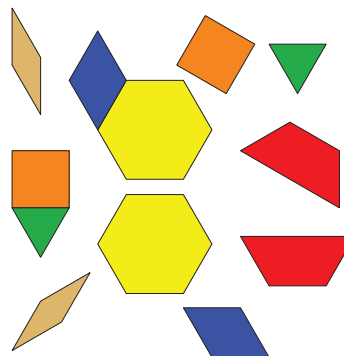
Revuelve y saca



Dedos matemáticos



Fichas geométricas



Libros de imágenes



