

Grado 2 Unidad 3

Lección 14

CC BY 2021 Illustrative Mathematics®

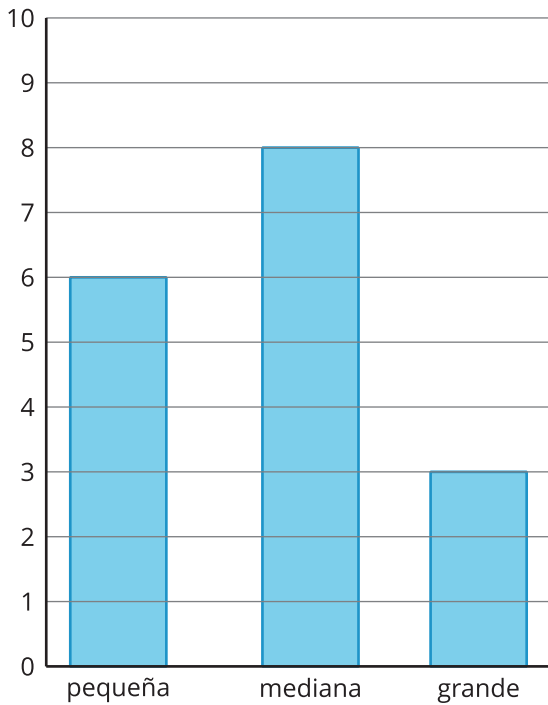
Unit 3 Lesson 14: ¿Qué es un diagrama de puntos?

WU Observa y pregúntate: Gráficas “a la mano” (Warm up)


Student Task Statement

¿Qué observas? ¿Qué te preguntas?

Tallas de guantes



Palmas de los profesores

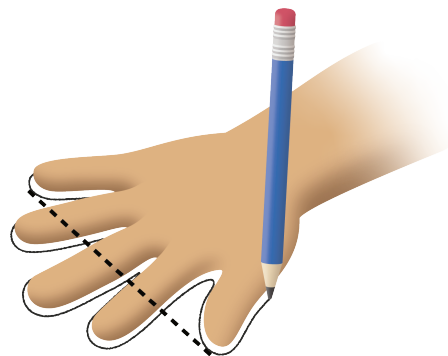


1 Midamos nuestros palmos

Student Task Statement

1. Traza tu mano (separa y estira tus dedos).
2. Dibuja una línea desde tu dedo pulgar hasta tu dedo meñique. Esta línea representa tu palmo. Mide la longitud de tu palmo en pulgadas.

Mi palmo mide _____ pulgadas.



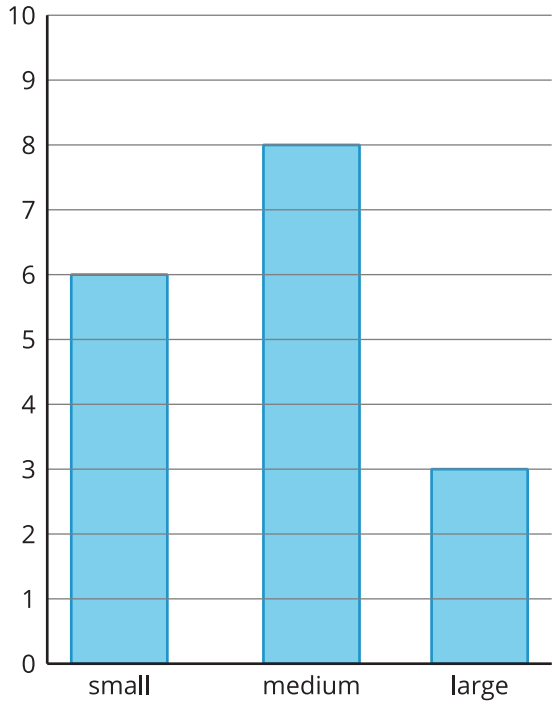
2 Interpretemos nuestros datos numéricos

Student Task Statement

1. ¿Cuál fue el palmo más largo?
2. ¿Cuál fue el palmo más corto?
3. Escribe otra afirmación sobre los palmos de nuestra clase basándote en el diagrama de puntos.

Images for Activity Synthesis

Glove Sizes



Hand Spans of Teachers

