

Grado 3 Unidad 2

Lección 14

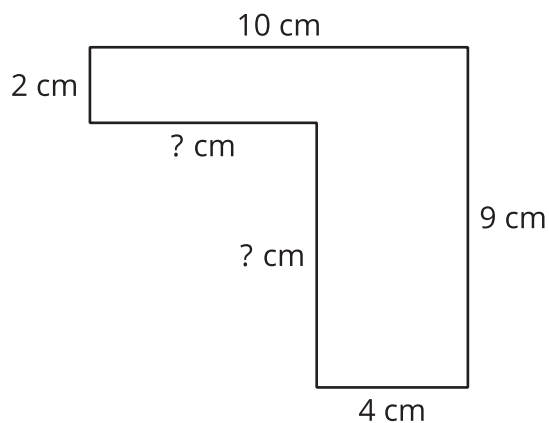
CC BY 2021 Illustrative Mathematics®

Unit 2 Lesson 14: Encontramos el área de figuras con lados desconocidos

WU Observa y pregúntate: Lados desconocidos (Warm up)

Student Task Statement

¿Qué observas? ¿Qué te preguntas?

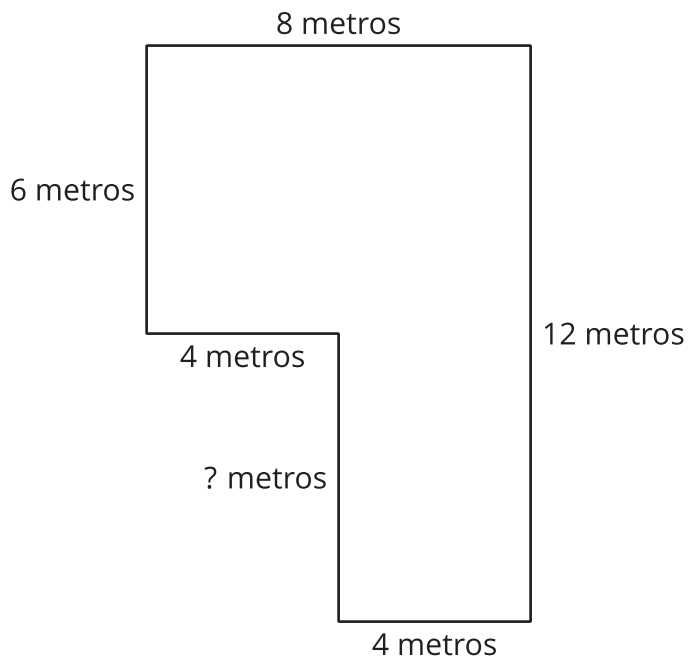


1 El lado desconocido

Student Task Statement

Tyler dice que la longitud del lado desconocido es 5 metros porque se ve más largo que los lados que miden 4 metros.

¿Estás de acuerdo o en desacuerdo? Prepárate para explicar tu razonamiento.

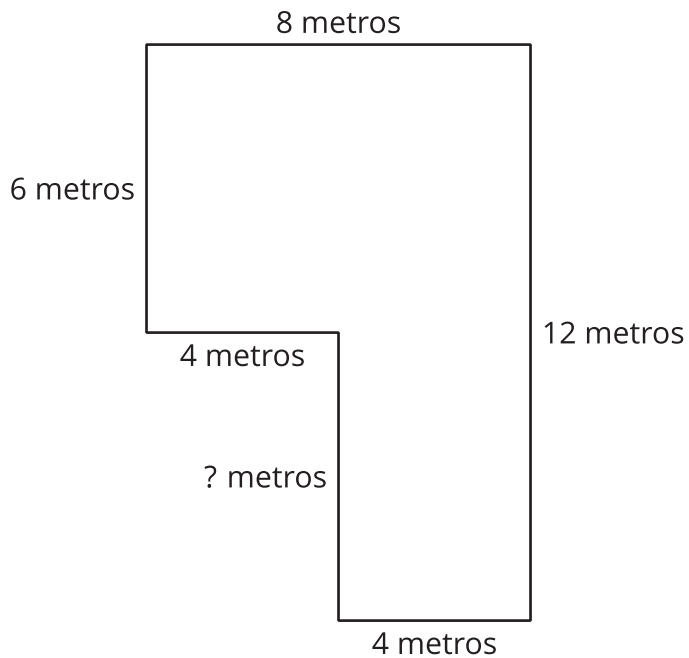


2 Practiquemos con lados desconocidos

Student Task Statement

Encuentra el área de cada figura. Explica o muestra tu razonamiento.

A



B

