

Grado 1 Unidad 6

Lección 6

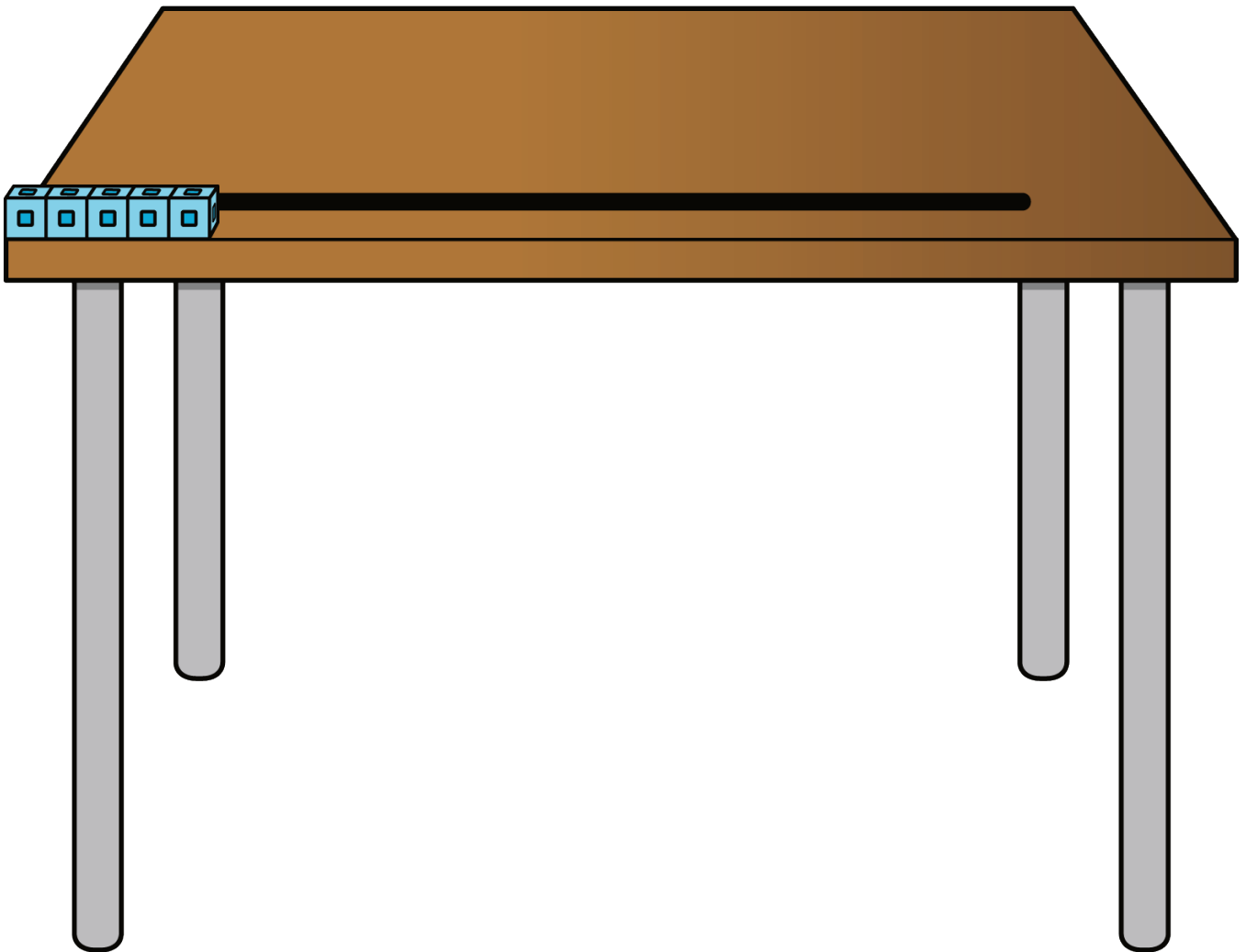
CC BY 2021 Illustrative Mathematics®

Unit 6 Lesson 6: Midamos con clips

WU Exploración de estimación: Longitud del escritorio (Warm up)

Student Task Statement

¿Qué tan largo es el escritorio?



Anota una estimación que sea:

muy baja	razonable	muy alta

1 Midamos con clips

Student Task Statement


2 Midamos nuestro libro de trabajo

Student Task Statement

Marca si estás de acuerdo o en desacuerdo con cada estudiante.

Explica por qué estás de acuerdo o en desacuerdo.

1.




Andre dice que su libro de trabajo mide 5 clips de largo.

De acuerdo En desacuerdo

Yo estoy _____ porque _____

2.




Tyler dice que el libro de trabajo mide 7 clips de largo.

De acuerdo En desacuerdo

Yo estoy _____ porque _____

3.



Clare dice que el libro de trabajo mide 8 clips de largo.

De acuerdo

En desacuerdo

Yo estoy _____ porque _____

3 Midamos cintas

Student Task Statement

Usa clips para medir cada cinta.

1. La longitud de la cinta A es _____ clips.
2. La longitud de la cinta B es _____ clips.
3. La longitud de la cinta C es _____ clips.
4. La longitud de la cinta D es _____ clips.
5. La longitud de la cinta E es _____ clips.
6. La longitud de la cinta F es _____ clips.