

Grado 3 Unidad 2

Lección 9


CC BY 2021 Illustrative Mathematics®

## Unit 2 Lesson 9: Midamos para encontrar el área

### WU Observa y pregúntate: Grupos y arreglos (Warm up)

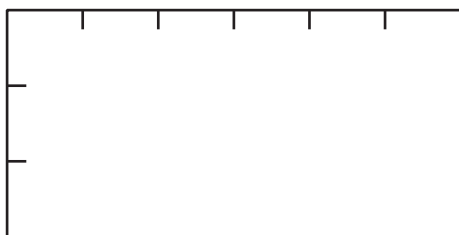
Student Task Statement

¿Qué observas? ¿Qué te preguntas?



### 1 Midamos para encontrar el área

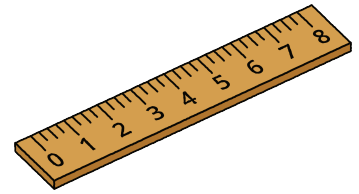
Images for Launch






### Student Task Statement


Usa una regla para medir los rectángulos. Después, calcula el área de los rectángulos, en centímetros cuadrados.



**A**



**C**



**B**



## 2 Hagamos un rectángulo

### Student Task Statement

Tu profesor te dará un poco de cinta. Úsala para crear un rectángulo que tenga el área que le asignaron a tu grupo.

- Área 1: 4 pies cuadrados

- Área 2: 6 pies cuadrados
  - Área 3: 9 pies cuadrados
  - Área 4: 10 pies cuadrados
  - Área 5: 12 pies cuadrados
  - Área 6: 16 pies cuadrados
-