

Grado 1 Unidad 4

Lección 3

CC BY 2021 Illustrative Mathematics®


Unit 4 Lesson 3: Sumar y restar con decenas

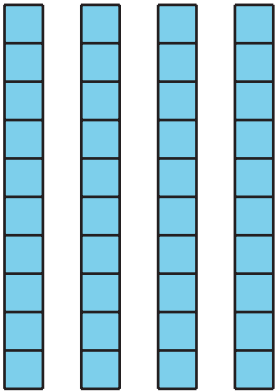

WU Cuántos ves: Grupos de 10 (Warm up)

Student Task Statement

¿Cuántos ves?

¿Cómo lo sabes?, ¿qué ves?





1 ¿Cuántas decenas tienen ahora?

Student Task Statement

1.
 - a. Muestra 1 decena.
Suma una decena.
¿Cuántas tienes ahora?
 - b. Suma otra decena.
¿Cuántas tienes ahora?
Muestra cómo pensaste. Usa dibujos, números o palabras.
 - c. Suma otra decena.
¿Cuántas tienes ahora?
Muestra cómo pensaste. Usa dibujos, números o palabras.
 - d. Suma otra decena.
¿Cuántas tienes ahora?

-
- Muestra cómo pensaste. Usa dibujos, números o palabras.
- e. Suma otra decena.
¿Cuántas tienes ahora?
Muestra cómo pensaste. Usa dibujos, números o palabras.
- f. Suma otra decena.
¿Cuántas tienes ahora?
Muestra cómo pensaste. Usa dibujos, números o palabras.
- g. Suma otra decena.
¿Cuántas tienes ahora?
Muestra cómo pensaste. Usa dibujos, números o palabras.
- h. Suma otra decena.
¿Cuántas tienes ahora?
Muestra cómo pensaste. Usa dibujos, números o palabras.
2. a. Muestra 9 decenas
Quita una decena.
¿Cuántas tienes ahora?
Muestra cómo pensaste. Usa dibujos, números o palabras.
- b. Quita otra decena.
¿Cuántas tienes ahora?
Muestra cómo pensaste. Usa dibujos, números o palabras.
- c. Quita otra decena.
¿Cuántas tienes ahora?
Muestra cómo pensaste. Usa dibujos, números o palabras.
- d. Quita otra decena.
¿Cuántas tienes ahora?
Muestra cómo pensaste. Usa dibujos, números o palabras.
- e. Quita otra decena.
¿Cuántas tienes ahora?
Muestra cómo pensaste. Usa dibujos, números o palabras.
- f. Quita otra decena.
¿Cuántas tienes ahora?
Muestra cómo pensaste. Usa dibujos, números o palabras.
- g. Quita otra decena.
¿Cuántas tienes ahora?
Muestra cómo pensaste. Usa dibujos, números o palabras.
- h. Quita otra decena.
¿Cuántas tienes ahora?
Muestra cómo pensaste. Usa dibujos, números o palabras.

2 Conozcamos “Cinco en línea: Suma o resta 10”

Student Task Statement



Anota tu ronda favorita.

Muestra cómo pensaste. Usa dibujos, números o palabras.

3 Centros: Momento de escoger

Student Task Statement

Escoge un centro.

Cinco en línea



¿Qué tan cerca?

$$\square \square + \square \square = \underline{\quad}$$

Acertijos numéricos

 $14 = 8 +$