

Grado 2 Unidad 3

Lección 8

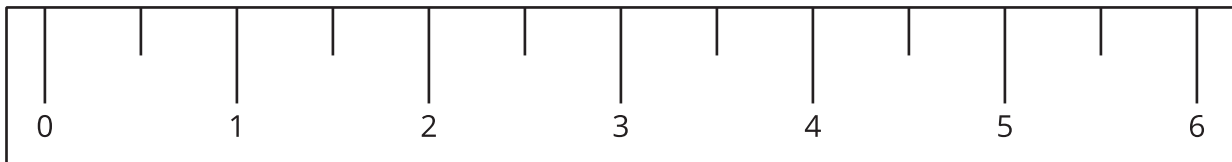
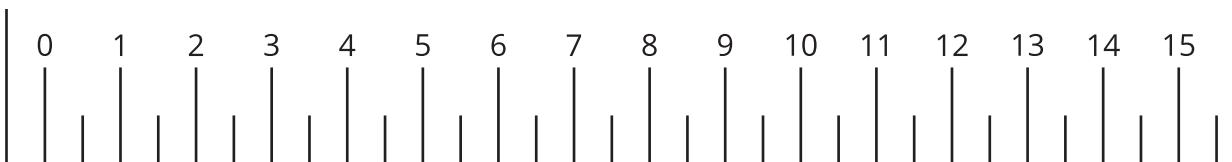
CC BY 2021 Illustrative Mathematics®

Unit 3 Lesson 8: ¿Qué es una pulgada?

WU Observa y pregúntate: Pulgadas y centímetros (Warm up)

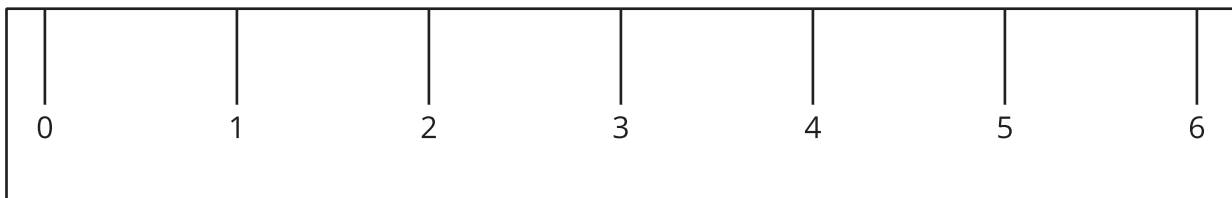
Student Task Statement

¿Qué observas? ¿Qué te preguntas?

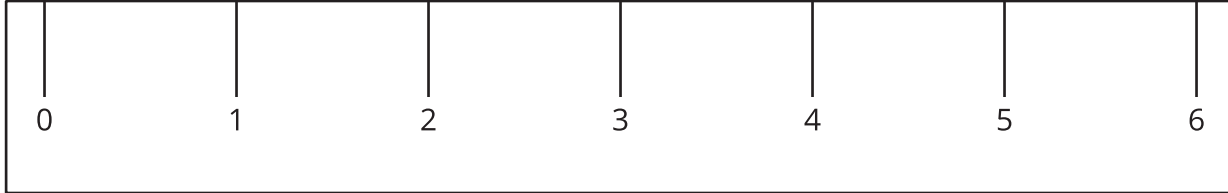



1 ¿Qué es una pulgada?

Images for Launch



Student Task Statement



1. Encuentra 2 objetos que midan aproximadamente una pulgada de largo.

a. _____

b. _____

2. Mide la longitud de cada objeto.

objeto a medir	longitud en pulgadas
marcador	
lápiz de color	
11 cubos encajables	
un libro	
objetos que escojas:	

2 Midamos los lados de varias figuras

Student Task Statement

1. Este es un rectángulo.




¿Cuánto mide el lado largo del rectángulo, en pulgadas?

Estimación: _____

Mide el lado largo del rectángulo.

Longitud real: _____

2. Este es un cuadrado.



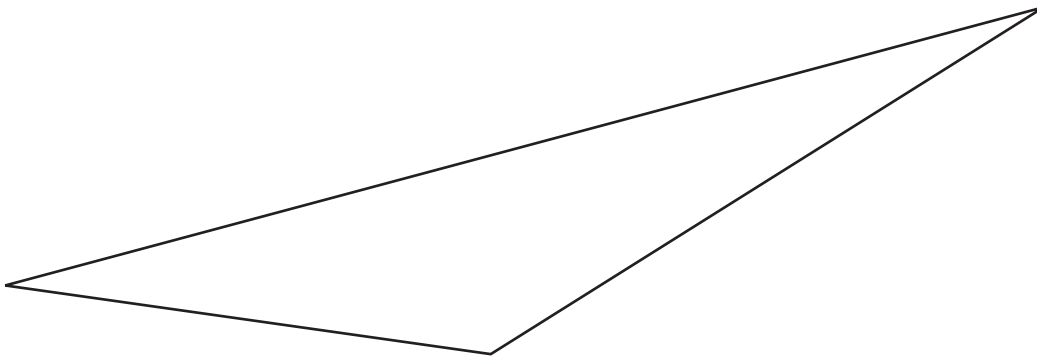
¿Cuánto mide el lado del cuadrado, en pulgadas?

Estimación: _____

Mide un lado del cuadrado.

Longitud real: _____

3. Este es un triángulo.



¿Cuánto mide el lado más largo del triángulo, en pulgadas?

Estimación: _____

Mide el lado más largo del triángulo.

Longitud real: _____