

Grado 3 Unidad 5

Lección 6

CC BY 2021 Illustrative Mathematics®

Unit 5 Lesson 6: Ubiquemos fracciones unitarias en la recta numérica

WUCuál es diferente: Detalles de fracciones (Warm up)


Student Task Statement

¿Cuál es diferente?


A



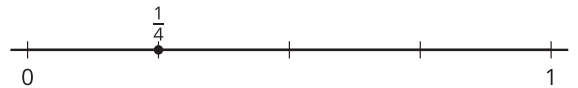
B



C



D

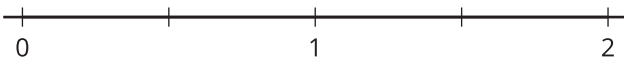


1 Partamos en cuartos

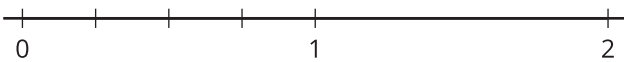
Student Task Statement

Tres estudiantes parten una recta numérica en cuartos. Este es su trabajo.

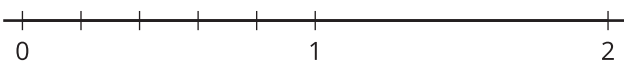
Recta numérica de Clare:



Recta numérica de Andre:



Recta numérica de Diego:








¿Cuál de estas particiones tiene más sentido para ti? Explica tu razonamiento.



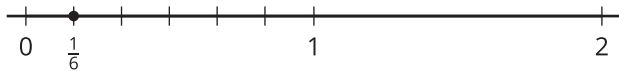
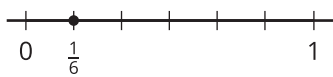
2 Fracciones unitarias en la recta numérica

Student Task Statement

Parte cada recta numérica. Ubica y marca cada fracción.



Activity Synthesis



Images for Activity Synthesis

