

Grado 3 Unidad 5

Lección 9

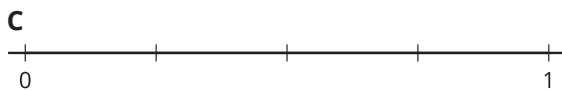

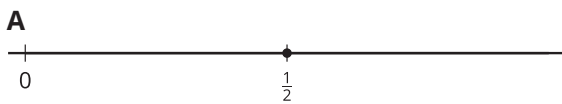
CC BY 2021 Illustrative Mathematics®

Unit 5 Lesson 9: Toda clase de números en la recta numérica

WU Cuál es diferente: Muchas rectas numéricas (Warm up)

Student Task Statement

¿Cuál es diferente?




1 Ubiquemos el 1 otra vez

Student Task Statement

1. Ubica y marca el 1 en cada recta numérica.



2. Usa cualquiera de las rectas numéricas para explicar cómo ubicaste el 1.



2 Ubiquemos $\frac{3}{4}$ (Optional)

Student Task Statement

Ubica y marca $\frac{3}{4}$ en la recta numérica. Prepárate para explicar cómo razonaste.

