


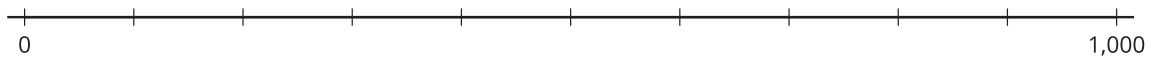
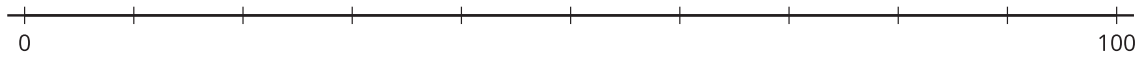
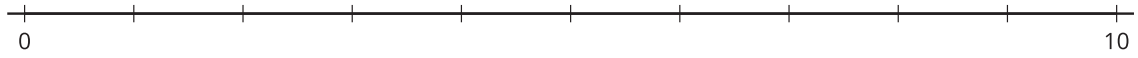
Lección 8: Números de tres dígitos en la recta numérica

- Ubiquemos y representemos números de tres dígitos en la recta numérica.





8.1: Marquemos números de tres dígitos

¿Qué observas? ¿Qué te preguntas?



Ubica y marca 30, 300 y 3 en una recta numérica.

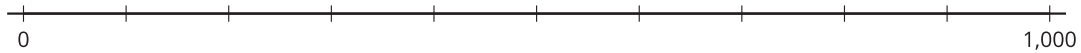
Marca cada punto con el número que el punto representa.



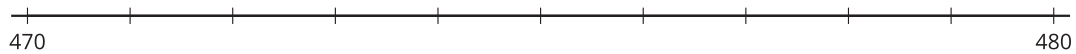
8.2: Representemos números de tres dígitos en una recta numérica

Ubica y marca cada número en la recta numérica. Si te ayuda, escribe el número que corresponde a cada marca.

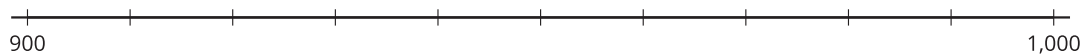
1. 700



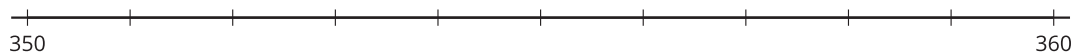
2. 472



3. 940



4. 356



5. 590

