

## Grado 2 Unidad 6

Lección 12

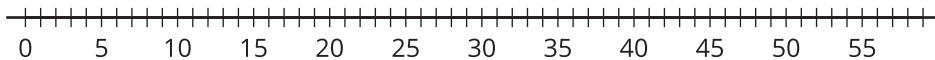
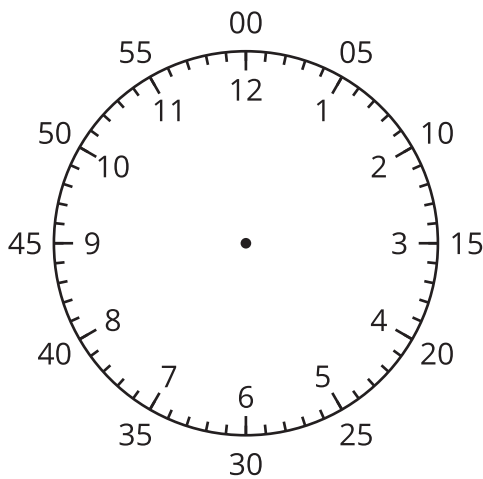
CC BY 2021 Illustrative Mathematics®

## Unit 6 Lesson 12: Contemos de 5 en 5 para leer la hora

### WU Observa y pregúntate: La recta numérica y el reloj (Warm up)

#### Student Task Statement

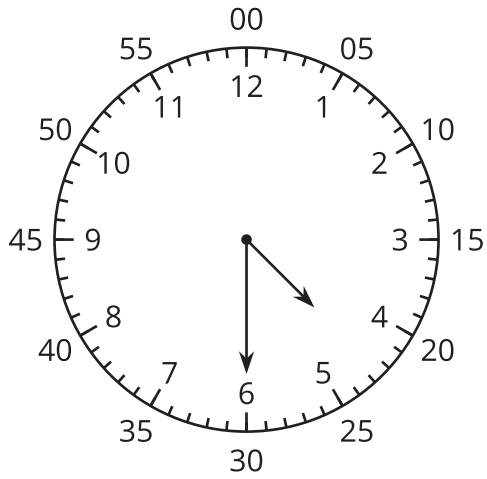
¿Qué observas? ¿Qué te preguntas?



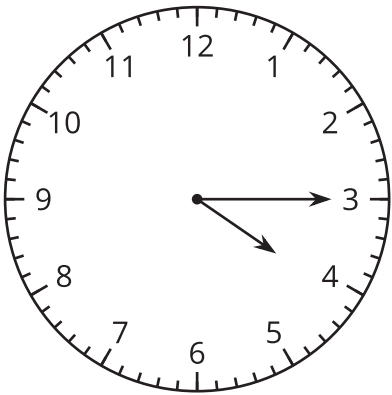
### 1 Contemos de 5 en 5 en el reloj

#### Student Task Statement

1. Discute 2 formas de decir la hora que muestra este reloj.



2. ¿Qué hora muestra este reloj?



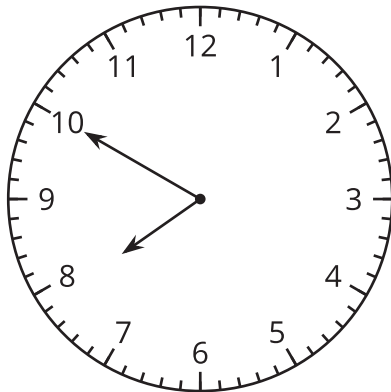
3. Lee la hora en cada tarjeta de reloj con tu pareja. Ordena los relojes según las horas que muestran.

## 2 Escribamos la hora

### Student Task Statement

En cada caso, escribe la hora que muestra el reloj.

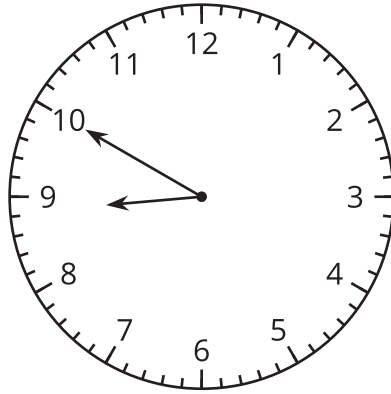
1.



---

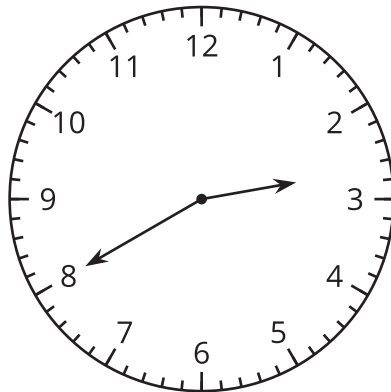
\_\_\_\_\_ : \_\_\_\_\_

2.



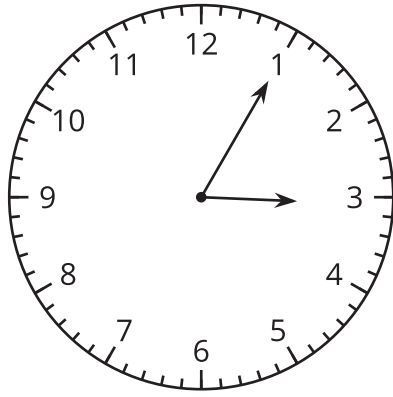
\_\_\_\_\_ : \_\_\_\_\_

3.



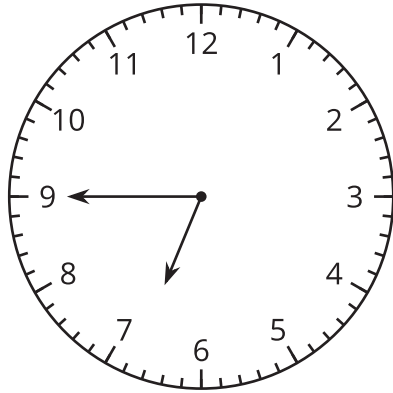
\_\_\_\_\_ : \_\_\_\_\_

4.



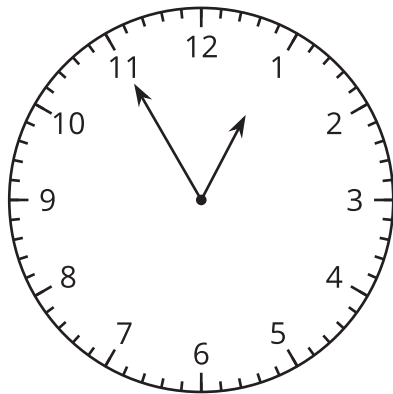
	•	
—	•	—

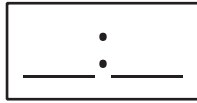
5.



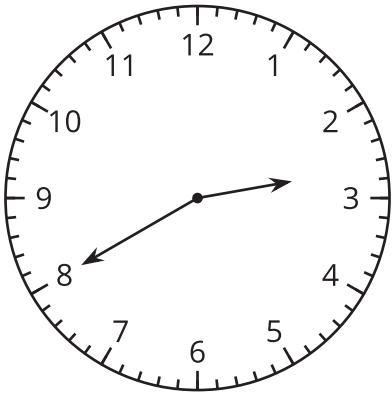
	•	
—	•	—

6.





### Activity Synthesis



### Images for Activity Synthesis

