

Grado 2 Unidad 6

Lección 15

CC BY 2021 Illustrative Mathematics®

Unit 6 Lesson 15: Identifiquemos pennies, nickels y dimes







WU ¿Qué saben sobre el dinero? (Warm up)

Student Task Statement

¿Qué sabes sobre el dinero?

1 Muéstrame el dinero

Images for Launch

nombre en inglés	parte delantera	parte trasera	valor
			
			
			

Student Task Statement

Nombra las monedas de cada grupo y encuentra su valor total en centavos. Muestra cómo pensaste. Usa números, palabras, dibujos o ecuaciones.

1. Monedas de Andre:



a. Marca el nombre de las monedas de esta colección:

dimes

nickels

pennies

b. ¿Cuál es el valor total de las monedas?

2. Monedas de Clare:



a. Marca el nombre de las monedas de esta colección:

dimes

nickels

pennies

b. ¿Cuál es el valor total de las monedas?

3. Monedas de Han:



a. Marca el nombre de las monedas de esta colección:

dimes

nickels

pennies

b. ¿Cuál es el valor total de las monedas?

4. Muestra 2 maneras diferentes de formar 10¢. Usa números, palabras o dibujos.

2 Comparemos monedas

Student Task Statement

Nombra las monedas de cada grupo y encuentra su valor total en centavos. Muestra cómo pensaste. Usa números, palabras, dibujos o ecuaciones.

1. Monedas de Mai:



a. Marca los nombres de las monedas de esta colección:

dimes

nickels

pennies

b. ¿Cuál es el valor total de las monedas?

2. Monedas de Andre:



a. Marca los nombres de las monedas de esta colección:

dimes

nickels

pennies

b. ¿Cuál es el valor total de las monedas?

3. Monedas de Clare:



a. Marca los nombres de las monedas de esta colección:

dimes

nickels

pennies

b. ¿Cuál es el valor total de las monedas?

4. Monedas de Priya:



a. Marca los nombres de las monedas de esta colección:

dimes

nickels

pennies

b. ¿Cuál es el valor total de las monedas?

5. Con su pareja, comparen los nombres de sus monedas y cómo encontraron los valores.

6. ¿Quién tiene el grupo de menor valor?

7. ¿Quién tiene la mayor cantidad de monedas? ¿Este grupo de monedas tiene el mayor valor? Expliquen.

Images for Activity Synthesis

