

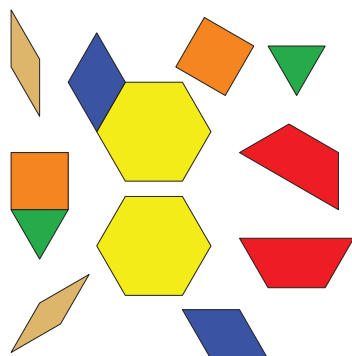
Lección 2: Más fichas o menos fichas

- Descifremos si hay más fichas en forma de triángulo o más fichas en forma de trapecio.


2.3: Conozcamos “Fichas geométricas: Ubica la última ficha geométrica”

Escoge un centro.


Fichas geométricas



Bloques sólidos geométricos



Agarra y cuenta



Encuentra la pareja



