

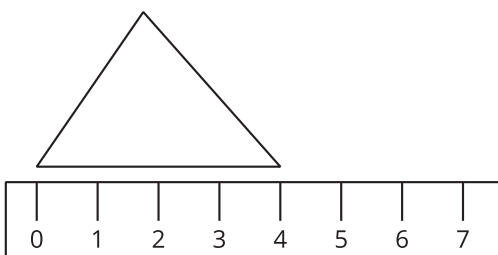
Lección 4: Estimemos y midamos en centímetros

- Estimemos y midamos en centímetros.

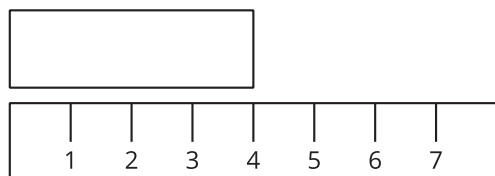
Calentamiento: Cuál es diferente: Longitud

¿Cuál es diferente?

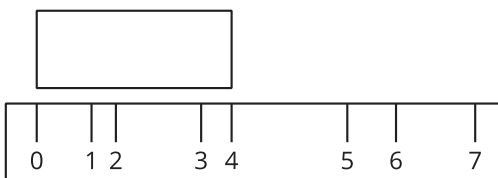
A



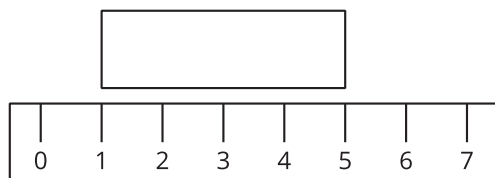
B



C



D



4.1: Estimemos la longitud en centímetros

1. Escribe una estimación que sea:

muy baja	razonable	muy alta

2. Escribe una estimación que sea:

muy baja	razonable	muy alta

3. Para cada objeto, escribe una estimación en la hoja de registro.

4. Cuéntale a tu compañero por qué piensas que tus estimaciones son “razonables”.

Hoja de registro

objeto	estimación	medida
<p>Escoge un objeto:</p>		

4.2: Midamos y comparemos

1. Mide cada objeto y anota su medida en tu hoja de registro.
Escribe cada longitud en centímetros.
2. Compara tus medidas con tus estimaciones.