


## Lección 24: Relacionemos contar con la suma y con la resta

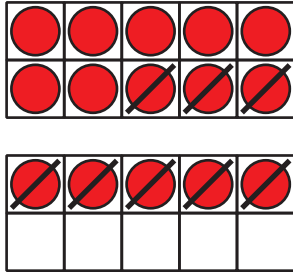
- Restemos contando hacia adelante o quitando.



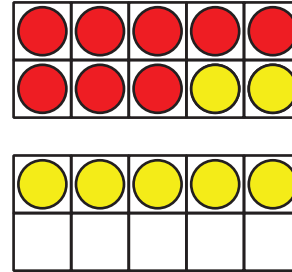
## 24.1: Diferentes métodos para restar

Ayer vimos el método de Diego para encontrar el valor de  $15 - 8$ .

El método de Diego



El método de Tyler



Encuentra el valor de cada diferencia. Primero, usa el método de Diego y, después, el método de Tyler.

Método de Diego

1.  $16 - 3$

Método de Tyler

Método de Diego

Método de Tyler

2.17 – 8

3.18 – 15

## 24.2: Encontramos el número que hace que la ecuación sea verdadera

Encuentra el número que hace que la ecuación sea verdadera. Asegúrate de que puedes explicar cómo pensaste de una forma que los demás entiendan.

Grupo A:

$$1. 12 - 7 = \square$$

$$2. 18 - 5 = \square$$

3.  =  $14 - 6$

4.  $15 - 12 =$

5.  $13 - 4 =$

Grupo B:

$$1.5 + \square = 18$$

$$2. 13 = \square + 6$$

$$3. 20 = 15 + \square$$