

## Grado 3 Unidad 6

Lección 9

CC BY 2021 Illustrative Mathematics®

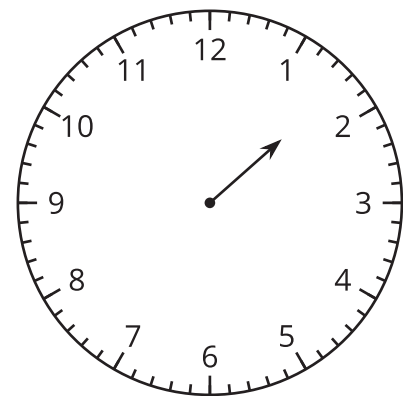
## Unit 6 Lesson 9: La hora al minuto más cercano

### WU Exploración de estimación: ¿Me das una manecilla? (Warm up)

#### Student Task Statement

Este reloj solo tiene la manecilla de las horas.

¿Qué hora puede ser?



Escribe una estimación que sea:

| muy temprano | razonable | muy tarde |
|--------------|-----------|-----------|
|              |           |           |

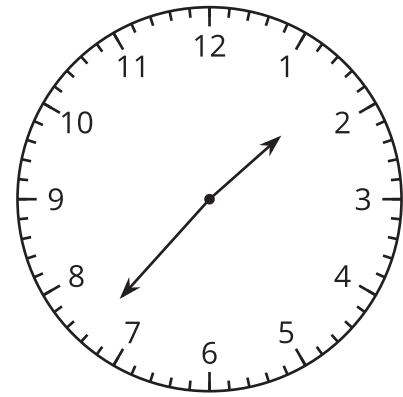
### 1 Solo un reloj en la pared

#### Student Task Statement

1. Lin dice que la hora que muestra el reloj es la 1:37 p.m.

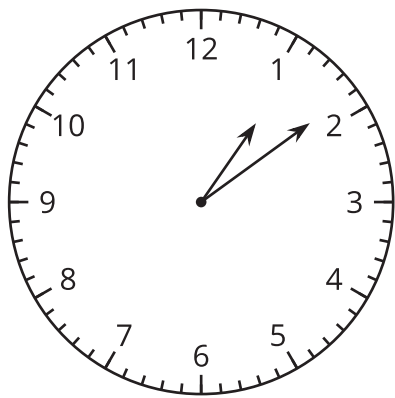
Diego dice que la hora es la 1:35 p.m.

¿Con quién estás de acuerdo? Explica o muestra tu razonamiento.

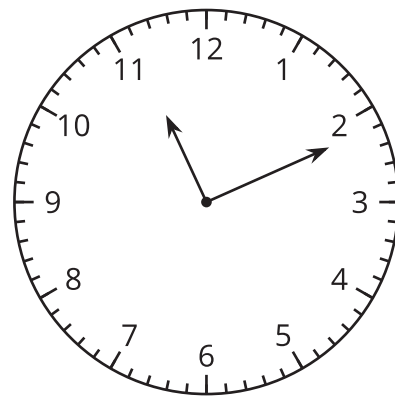


2. ¿Qué hora muestra cada reloj?

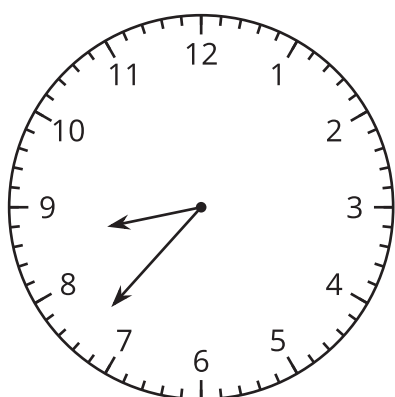
**A**



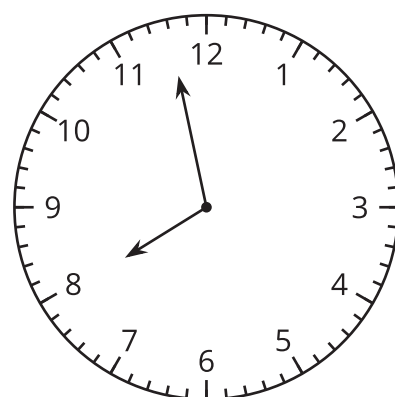
**B**



**C**



**D**



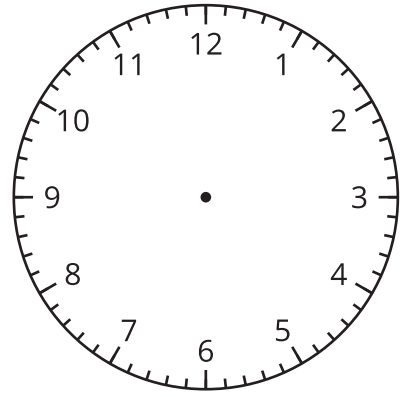
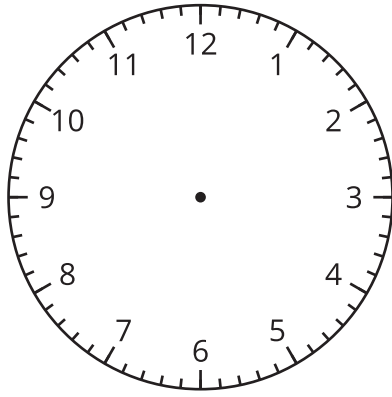
## 2 Es la hora!

### Student Task Statement

1. En cada reloj, muestra la hora dada.

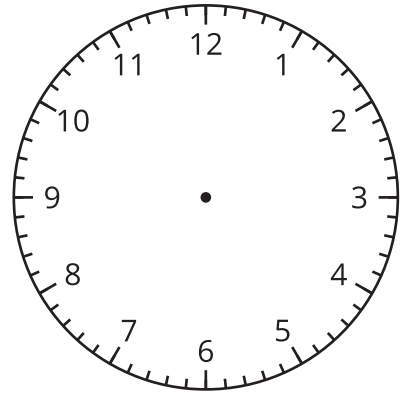
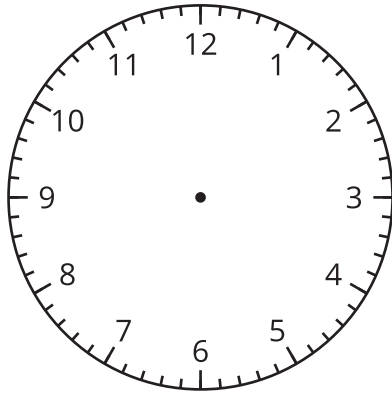
**A 2:36 PM**

**B 3:18 PM**



**C 12:17 PM**

**D 9:02 PM**



2. Dibuja una hora en este reloj. Intercambia con un compañero y di qué hora es en su reloj.

