


# Lección 6: Midamos con clips

- Midamos longitudes con una nueva herramienta.

## Calentamiento: Exploración de estimación: Longitud del escritorio

¿Qué tan largo es el escritorio?



Anota una estimación que sea:


muy baja	razonable	muy alta

## 6.2: Midamos nuestro libro de trabajo

Marca si estás de acuerdo o en desacuerdo con cada estudiante.

Explica por qué estás de acuerdo o en desacuerdo.

1.




Andre dice que su libro de trabajo mide 5 clips de largo.

De acuerdo      En desacuerdo

Yo estoy \_\_\_\_\_ porque \_\_\_\_\_

---

2.




Tyler dice que el libro de trabajo mide 7 clips de largo.

De acuerdo      En desacuerdo

Yo estoy \_\_\_\_\_ porque \_\_\_\_\_

---

3.



Clare dice que el libro de trabajo mide 8 clips de largo.

De acuerdo      En desacuerdo

Yo estoy \_\_\_\_\_ porque \_\_\_\_\_

\_\_\_\_\_

## 6.3: Midamos cintas

Usa clips para medir cada cinta.

1. La longitud de la cinta A es \_\_\_\_\_ clips.

2. La longitud de la cinta B es \_\_\_\_\_ clips.

3. La longitud de la cinta C es \_\_\_\_\_ clips.

4. La longitud de la cinta D es \_\_\_\_\_ clips.

5. La longitud de la cinta E es \_\_\_\_\_ clips.

6. La longitud de la cinta F es \_\_\_\_\_ clips.