

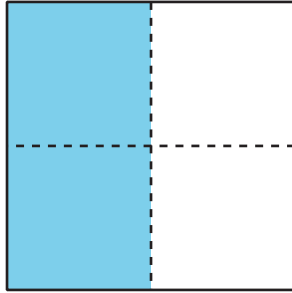
# Lección 10: Fracciones equivalentes

- Identifiquemos fracciones equivalentes.

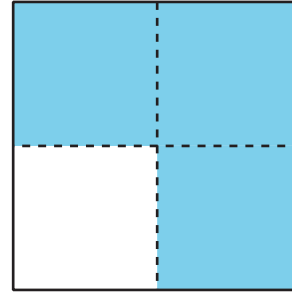
## 10.1: Equivalente a $\frac{1}{2}$

1. ¿En cuáles figuras la sección sombreada es  $\frac{1}{2}$  de la figura? Prepárate para explicar tu razonamiento.


A



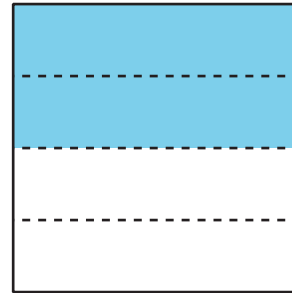
B




C



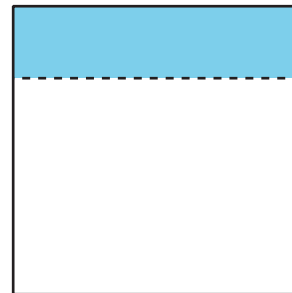
D



E



F



2. ¿Cómo puede haber más de una manera de colorear una figura para mostrar  $\frac{1}{2}$ ?

## 10.2: Encontramos fracciones equivalentes

Usa las tiras de fracciones que usaste en una lección anterior para encontrar tantas fracciones como puedas que sean equivalentes a:

1.  $\frac{1}{2}$

2.  $\frac{2}{3}$

3.  $\frac{6}{6}$

4.  $\frac{3}{4}$

Prepárate para mostrar cómo sabes que las fracciones son equivalentes.