


Lección 6: Ubiquemos fracciones unitarias en la recta numérica

- Partamos la recta numérica para ubicar fracciones unitarias.

Calentamiento: Cuál es diferente: Detalles de fracciones

¿Cuál es diferente?


A



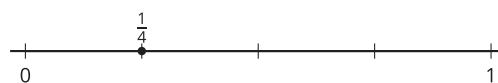
B



C



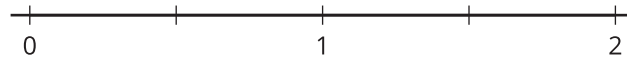
D



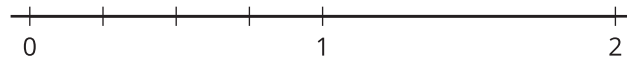
6.1: Partamos en cuartos

Tres estudiantes parten una recta numérica en cuartos. Este es su trabajo.

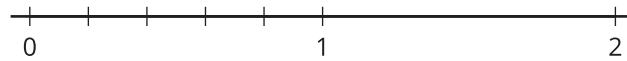
Recta numérica de Clare:



Recta numérica de Andre:



Recta numérica de Diego:



¿Cuál de estas particiones tiene más sentido para ti? Explica tu razonamiento.



6.2: Fracciones unitarias en la recta numérica

Parte cada recta numérica. Ubica y marca cada fracción.

