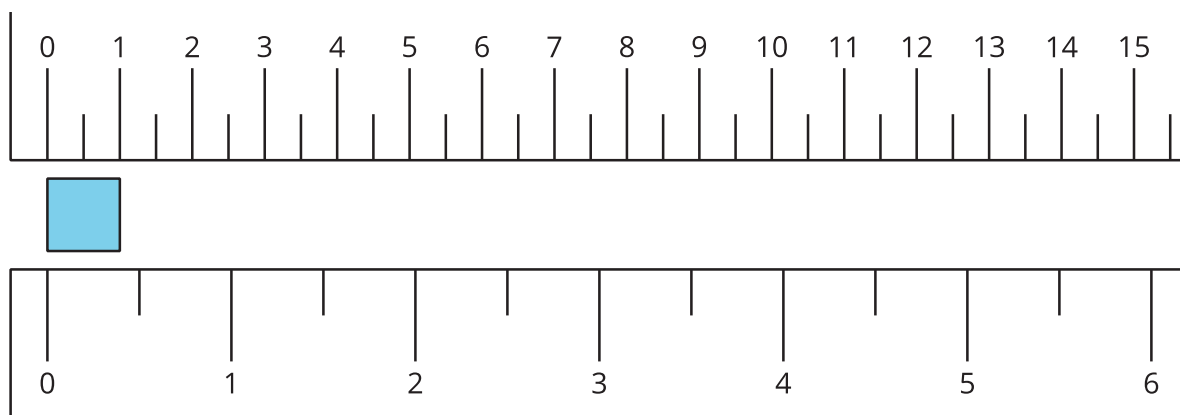


Lección 8: ¿Qué es una pulgada?

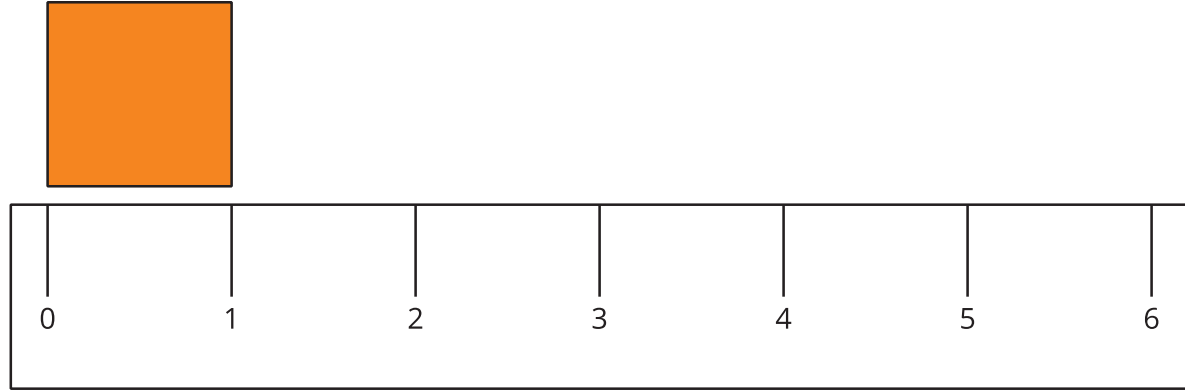
- Midamos en pulgadas.

Calentamiento: Observa y pregúntate: Pulgadas y centímetros

¿Qué observas? ¿Qué te preguntas?



8.1: ¿Qué es una pulgada?



1. Encuentra 2 objetos que midan aproximadamente una pulgada de largo.

a. _____

b. _____

2. Mide la longitud de cada objeto.

objeto a medir	longitud en pulgadas
marcador	
lápiz de color	
11 cubos encajables	
un libro	
objetos que escojas:	

8.2: Midamos los lados de varias figuras

1. Este es un rectángulo.




¿Cuánto mide el lado largo del rectángulo, en pulgadas?

Estimación: _____

Mide el lado largo del rectángulo.

Longitud real: _____

2. Este es un cuadrado.



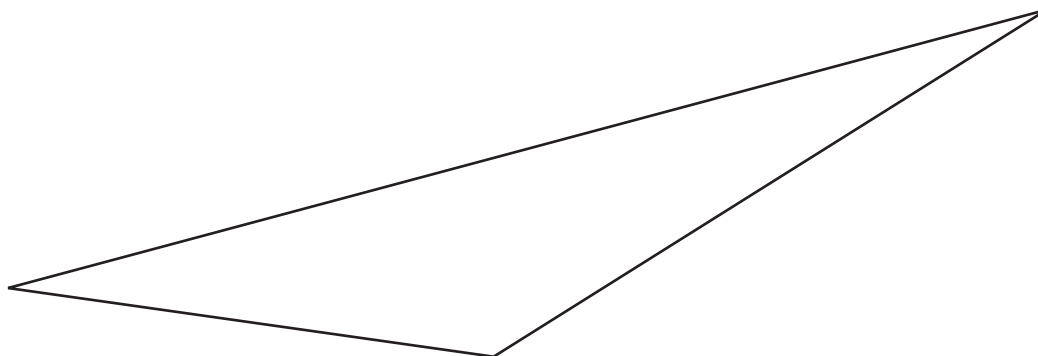
¿Cuánto mide el lado del cuadrado, en pulgadas?

Estimación: _____

Mide un lado del cuadrado.

Longitud real: _____

3. Este es un triángulo.



¿Cuánto mide el lado más largo del triángulo, en pulgadas?

Estimación: _____

Mide el lado más largo del triángulo.

Longitud real: _____