

Unit 6 Lesson 11: Resolvamos problemas sobre el tiempo (parte 2)


WU Observa y pregúntate: Ensayo de la banda (Warm up)

Student Task Statement

¿Qué observas? ¿Qué te preguntas?

Han cenó antes de tomar el bus.

Cuando bajó del bus, tuvo que apurarse para llegar a tiempo al ensayo de la banda.

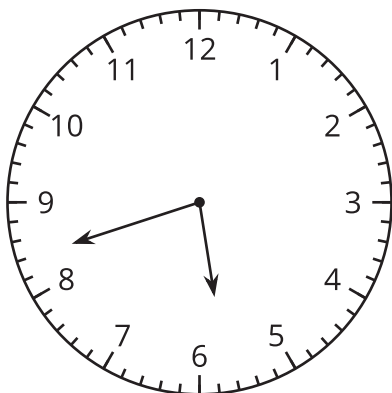


1 Otra vez en el bus

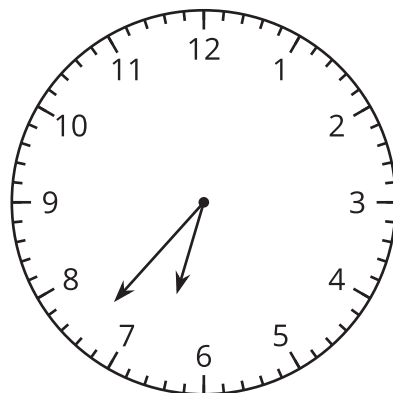
Student Task Statement

1. ¿Durante cuántos minutos estuvo Han en el bus? Explica o muestra tu razonamiento.

la hora a la que Han subió al bus:

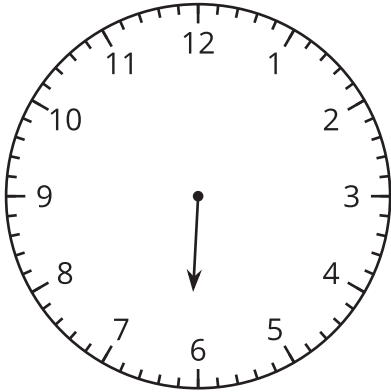


la hora a la que Han bajó del bus:

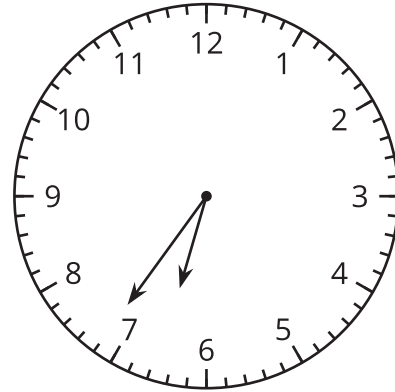


2. Dibuja la manecilla de los minutos para mostrar que Elena esperó el bus durante 32 minutos.

la hora a la que Elena empezó a esperar:



la hora a la que Elena subió al bus:



2 La hora con mi mate-libreta

Student Task Statement

En cada problema, llena los espacios con un nombre y una actividad, y luego resuelve el problema. Muestra cómo pensaste. Organiza tus ideas para que los demás puedan entenderlas.

1. _____ empezó _____ a las 8:25 a.m. y terminó a las 8:50 a.m. ¿Cuánto tiempo duró esta actividad?
2. _____ terminó _____ a las 5:38 p.m, después de haber pasado 20 minutos en ello. ¿A qué hora empezó?
3. _____ empezó _____ a las 10:45 a.m. y terminó a las 11:18 a.m. ¿Cuánto tiempo pasó en la actividad?
4. _____ empezó _____ a las 3:30 p.m. y se tardó 45 minutos en completar esa actividad. ¿A qué hora terminó?