

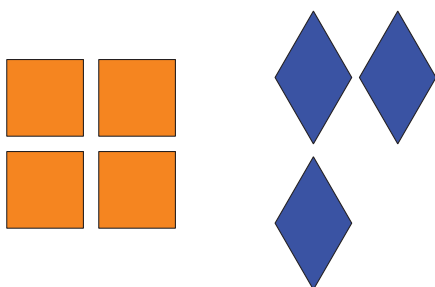
Lección 2: Formemos y separemos diseños con fichas geométricas

- Formemos y separemos diseños hechos con fichas geométricas.


Calentamiento: Cuál es diferente: Diseños con fichas geométricas

¿Cuál es diferente?

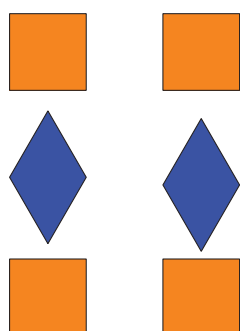
A




B



C




D



2.1: Hagamos diseños con fichas geométricas


Mi diseño



2.2: El diseño con fichas geométricas de Han

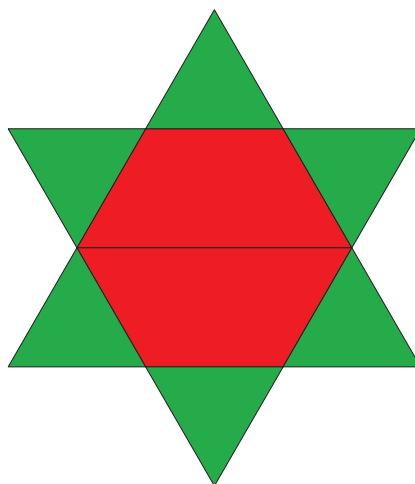
Han usó 8 fichas geométricas.

1.



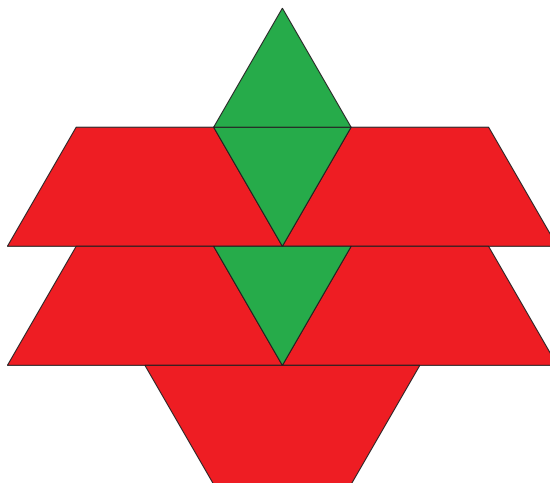
Expresión: _____

2.




Expresión: _____

3.



Expresión: _____

4.



Expresión: _____

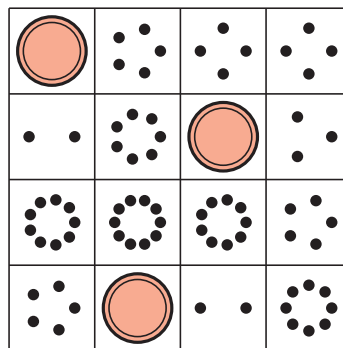
2.3: Centros: Momento de escoger

Escoge un centro.

Márcalo



Bingo



Encuentra el valor de expresiones



$$3 + 5 \quad 7 - 5$$

Revuelve y saca

