

Lección 14: Compongamos con figuras sólidas

- Construyamos con figuras sólidas.

Calentamiento: Conversación numérica: Restemos 1 y 2

Encuentra el valor de cada expresión.

- $3 - 1$

- $3 - 2$

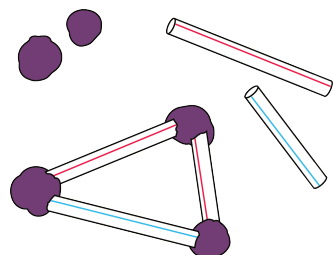
- $4 - 2$

- $5 - 1$


14.3: Conozcamos “Haz una como la mía: Figuras sólidas”

Escoge un centro.


Construye figuras



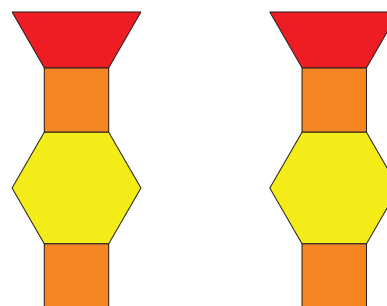
Bloques sólidos geométricos



Contar colecciones



Haz una como la mía



Revuelve y saca

