

# Lección 15: Construyamos y contemos con figuras sólidas

- Construyamos y contemos con figuras sólidas.

## Calentamiento: Exploración de estimación: ¿Cuántos cubos?

1. Escribe una estimación que sea:

muy baja	razonable	muy alta

2. Escribe una estimación que sea:

muy baja	razonable	muy alta



## 15.1: Una torre alta

¿Cuántas figuras sólidas usaste en tu torre?

---





## 15.2: ¿Qué pueden hacer con estas figuras?

1. 5 cubos

4 cilindros

6 conos



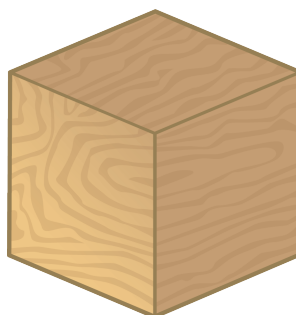

¿Cuántas figuras usaste en total?

---

2. 3 conos

4 cubos

5 cilindros



¿Cuántas figuras usaste en total?

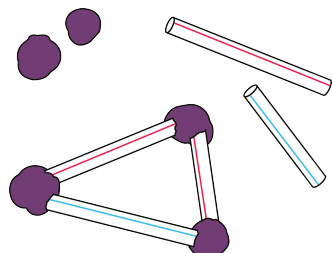
---




## 15.3: Centros: Momento de escoger

Escoge un centro.


Construye figuras



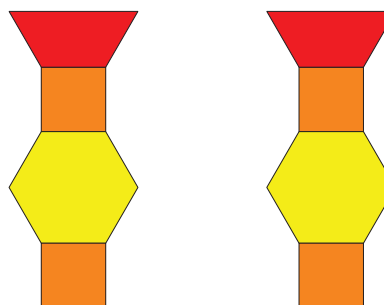
Bloques sólidos geométricos



Contar colecciones



Haz una como la mía



Revuelve y saca

