

Lección 10: Identifiquemos y describamos figuras sólidas

- Hagamos y describamos figuras sólidas.

Calentamiento: Conversación numérica: Sumemos hasta 5

Encuentra el valor de cada expresión.

- $2 + 3$

- $3 + 2$



- $4 + 1$

- $5 + 0$

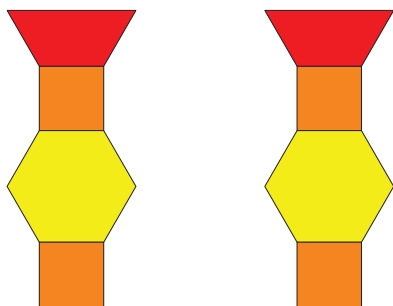
10.3: Centros: Momento de escoger

Escoge un centro.

Bloques sólidos geométricos Contar colecciones



Haz una como la mía



Revuelve y saca

