


Lección 17: Formemos 10 y separemos el 10

- Busquemos grupos que forman 10.

Calentamiento: Exploración de estimación: 5 y 5 forman 10

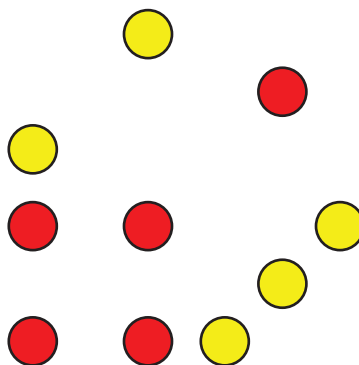
1. ¿Cuántos puntos hay?



Escribe una estimación que sea:

muy baja	razonable	muy alta

2. ¿Cuántos puntos hay?



Escribe una estimación que sea:

muy baja	razonable	muy alta

17.2: Formemos 10 y separemos el 10

- $7 + 3 = 10$

- $10 = 4 + 6$

- $9 + 1 = 10$

- $10 = 2 + 8$

• _____ + _____ = 10



• 10 = _____ + _____



• _____ + _____ = 10



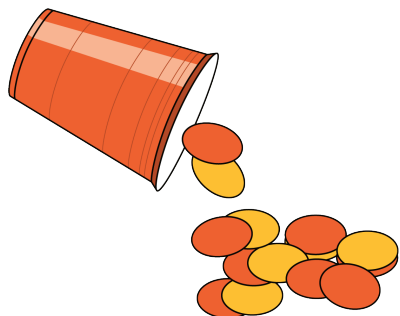
• _____ + _____ = 10



17.3: Centros: Momento de escoger

Escoge un centro.


Revuelve y saca



Carrera con números



Agarra y cuenta



¿Qué hay a mis espaldas?



Fichas geométricas

