

Lección 13: Dominós hasta 5


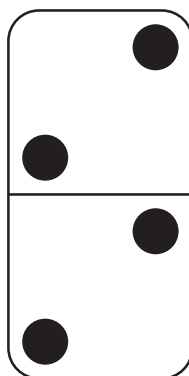
- Clasifiquemos distintas maneras de formar números hasta 5.

Calentamiento: Observa y pregúntate: Maneras de formar 4

¿Qué observas?

¿Qué te preguntas?

$$2 + 2$$



13.1: Clasificación de dominós

Clasifica los dominós según el número total de puntos.

Escoge 1 grupo.

Escribe una expresión para cada dominó.

13.2: Comparemos puntos en dominós

Voltea una tarjeta.

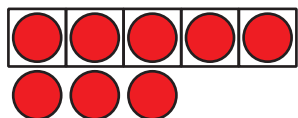
Compara el número de puntos usando las palabras “menos” o “el mismo número”.

Compara el número de puntos usando las palabras “más” o “el mismo número”.

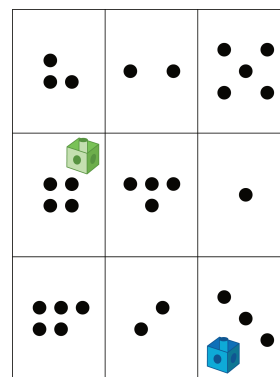
13.3: Centros: Momento de escoger

Escoge un centro.

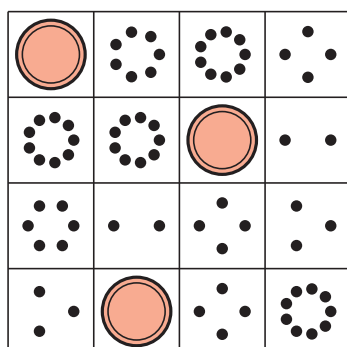
Tableros de 5




Lanza y suma



Bingo



Bloques sólidos geométricos



Encuentra el valor de expresiones

$$3 + 5 \quad 7 - 5$$

