

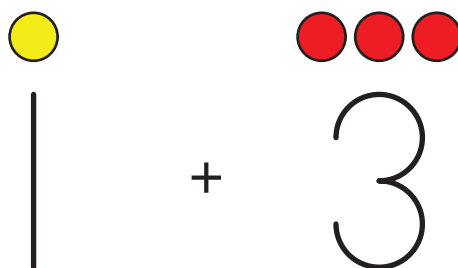
Lección 15: Expresiones y dibujos

- Emparejemos expresiones con dibujos.

Calentamiento: Observa y pregúntate: Figuras y números

¿Qué observas?

¿Qué te preguntas?



15.1: Emparejemos dibujos con expresiones



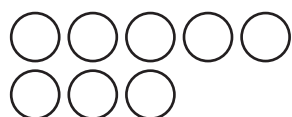
$9 - 2$



$6 - 3$



$4 + 2$



$6 + 3$



$5 + 3$



$7 + 0$

15.2: Escribamos expresiones y hagamos dibujos

Completa las expresiones y los dibujos que faltan.

$4 + 3$



$4 - 0$



$\underline{\quad} - \underline{\quad}$



$5 + 3$



Completa las expresiones y los dibujos que faltan.

$$8 - 2$$

$$\underline{\quad} + \underline{\quad}$$



$$1 + 6$$

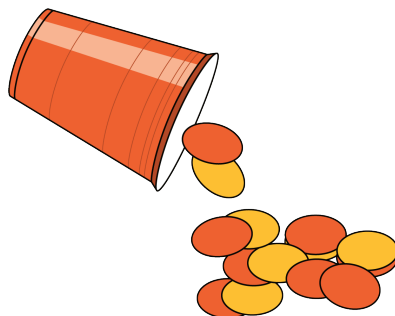
$$\underline{\quad} - \underline{\quad}$$




15.3: Conozcamos “Revuelve y saca: Representa”

Escoge un centro.

Revuelve y saca



Carrera con números



Historias matemáticas

