

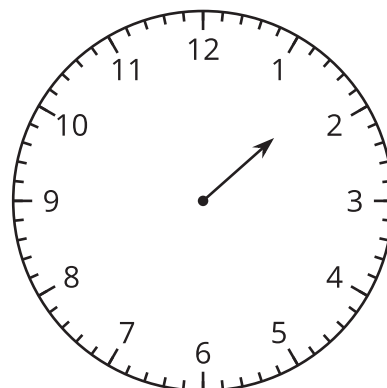
# Lección 9: La hora al minuto más cercano

- Leamos y escribamos la hora al minuto más cercano.

## Calentamiento: Exploración de estimación: ¿Me das una manecilla?

Este reloj solo tiene la manecilla de las horas.

¿Qué hora puede ser?



Escribe una estimación que sea:

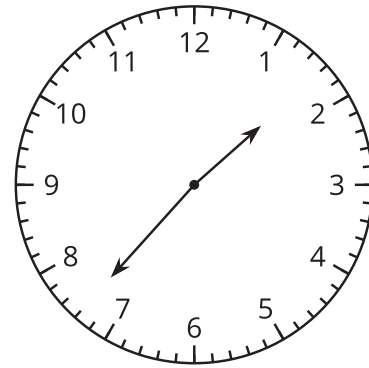
muy temprano	razonable	muy tarde

## 9.1: Solo un reloj en la pared

1. Lin dice que la hora que muestra el reloj es la 1:37 p.m.

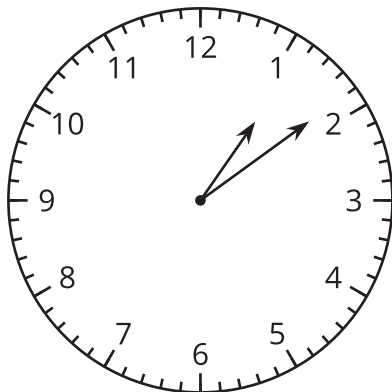
Diego dice que la hora es la 1:35 p.m.

¿Con quién estás de acuerdo? Explica o muestra tu razonamiento.

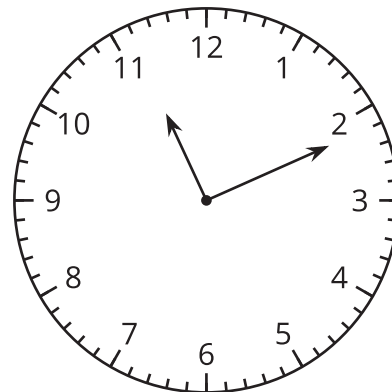


2. ¿Qué hora muestra cada reloj?

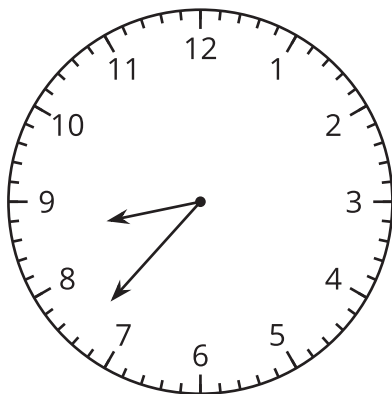
**A**



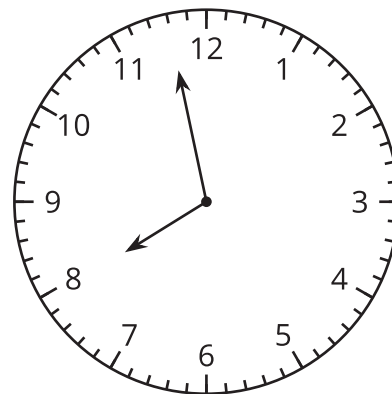
**B**



**C**



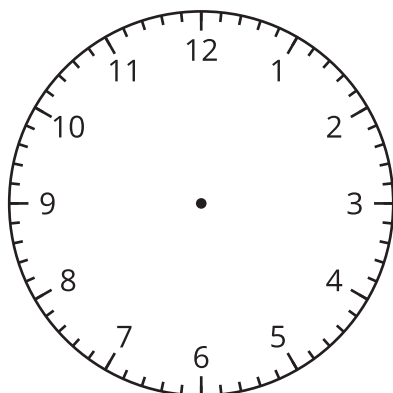
**D**



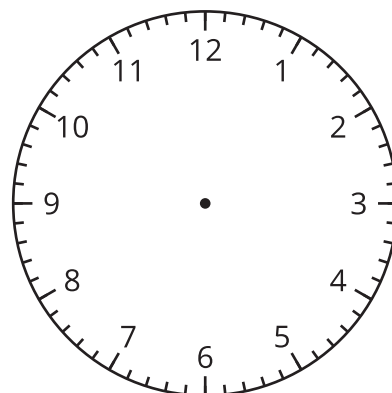
## 9.2: Es la hora!

1. En cada reloj, muestra la hora dada.

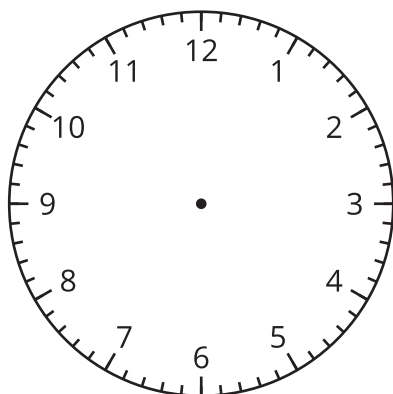
**A 2:36 PM**



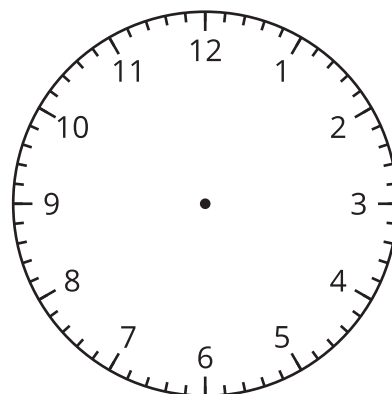
**B 3:18 PM**



**C 12:17 PM**



**D 9:02 PM**



2. Dibuja una hora en este reloj. Intercambia con un compañero y di qué hora es en su reloj.

